

## 第九章 南亞—印度半島

### 一、單選題

- ( ) 1. 「本市為印度第一大港，印度最重要的棉紡織工業中心，人口眾多，工商業發達，自英國殖民時期起，即為物品的進出口港，有『印度西大門』之稱。」請問以上敘述最有可能為印度哪一個城市？ (A)新德里 (B)孟買 (C)加爾各答 (D)亞得拉 (E)瓦德拉西。

**解答** B

- ( ) 2. 「地底下蘊藏豐富的礦產，地面上則到處可見棉的種植，這一切乃導因於古老的岩層和火山的活動」，上文所描述的地區應該是指印度半島的： (A)喜馬拉雅山區 (B)印度大平原 (C)德干高原 (D)塔爾沙漠 (E)沿海平原。

**解答** C

- ( ) 3. 印度若想振興國家的經濟能力，邁向進步國家，除了要設法控制人口成長的速度外，最重要的工作是縮短貧富間的差距，而造成印度國內貧富不均最重要的因素是： (A)人民工作不努力 (B)自然環境差異太大 (C)富人缺乏濟貧的觀念 (D)稅賦制度有缺失 (E)種姓制度的遺毒。

**解答** E

- ( ) 4. 印度半島獨立之初，即因宗教的因素分為印度和巴基斯坦，其中巴基斯坦所信仰的宗教是： (A)佛教 (B)耆那教 (C)錫克教 (D)伊斯蘭教 (E)基督教。

**解答** D

- ( ) 5. 下列有關德干高原和阿拉伯高原的比較，正確的是： (A)甲 (B)乙 (C)丙 (D)丁 (E)戊。

	甲、礦產	乙、氣候	丙、構造	丁、國家數	戊、面積
德干高原	鐵、錳	熱帶雨林	古陸塊	較少	較大
阿拉伯高原	煤	熱帶沙漠	新褶曲山地	較多	較小

**解答** D

**解析** 甲：阿拉伯高原為石油；乙：德干高原為熱帶季風；丙：皆為古陸塊。

- ( ) 6. 印度半島冬季不冷，年平均氣溫比同緯度其他地區為高的主要影響因素為： (A)暖流 (B)海洋 (C)季風 (D)信風 (E)地形。

**解答** E

**解析** 北有高山阻擋寒潮。

- ( ) 7. 下列有關恆河平原和印度河平原的比較，何者「不」正確？

	(A)	(B)	(C)	(D)	(E)
	位置	濱海	雨量	主要農產	主權國家
恆河平原	印度大平原東部	孟加拉灣	較多	水稻、黃麻	印度、巴基斯坦
印度河平原	印度大平原西部	阿拉伯海	較少	棉花、小麥	印度、孟加拉

**解答** E

**解析** (E)答案相反。

- ( ) 8. 印度半島北有山脈屏障，東、南、西三面環海，自成一封閉的地理區，但雅利安人卻從其何方向的缺口進入本區？ (A)東北 (B)西北 (C)東南 (D)西南。

**解答** B

- ( ) 9. 下列何現象與德干高原上古老岩層廣布有密切相關？ (A)西北部適合棉花栽培 (B)富煤、鐵、錳等礦 (C)為印度最重要的農業生產地帶 (D)高原表面並不平坦 (E)河川多向東注入孟加拉灣。

**解答** B

- ( ) 10. 德干高原的地質構造是： (A)沉積的石灰岩層 (B)古老的結晶岩地塊 (C)地塹盆地 (D)原為海溝，因兩側河流沖積成平原 (E)冰積平原多窪地。

**解答** B

- ( ) 11. 位於印度北部的喜馬拉雅山對印度氣候的影響為： (A)夏季阻擋了北方寒風的侵襲 (B)使印度北部平原冬季較同緯的東亞季風區溫暖 (C)冬季可獲得印度洋季風帶來的豐沛雨水 (D)造成印度冬季季風較夏季強勁 (E)使印度的雨季較長。

**解答** B

**解析** (A)應為冬季 (C)應為夏季 (D)相反 (E)無關。

- ( ) 12. 印度的哲雪鋪為該國主要的鋼鐵工業中心，主要是因該地具有哪一項優越性？ (A)易達性高 (B)可節省集貨成本 (C)可降低加工製造成本 (D)可節省分配成本 (E)位置接近中國。

**解答** B

**解析** 哲雪鋪周圍有煤鐵礦，可節省原料運送的集貨成本。

- ( )13. 觀光旅遊興盛的今日，國人如欲赴南亞旅遊，就氣候而言以哪個時期最好？ (A)3 4月 (B)5 6月 (C)7 9月 (D)10 2月 (E)全年皆可。

**解答** D

**解析** 涼季為 10 2月，最適合旅遊。

- ( )14. 德干高原上，雨量略少，耕作多賴灌溉，它的主要農作有： (A)水稻、黃麻 (B)茶葉、水稻 (C)棉花、小麥、小米 (D)小米、甘蔗、黃麻 (E)黃麻、茶葉。

**解答** C

- ( )15. 印度教為印度最大的宗教，信仰人數最多，教徒分布最廣，是維持印度社會穩定的力量，其教義包括：(甲)輪迴轉世的觀念；(乙)種姓階級的觀念；(丙)人人生而平等；(丁)禁酒、不吃豬肉。 (A)甲乙 (B)甲丙 (C)甲丁 (D)乙丁 (E)丙丁。

**解答** A

- ( )16. 四大種姓是印度社會的基本結構，僧侶和有學問的人為此社會結構的最高階級，其被稱為： (A)婆羅門 (B)首陀羅 (C)刹帝利 (D)吠舍 (E)賤民。

**解答** A

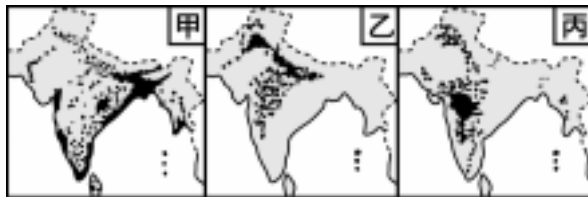
- ( )17. 「印度社會中，每個人的職業生來就已決定，且不管個人對某種職業有無興趣，工作是否適合，都得被迫去從事，導致不能人盡其材，而影響其整體的經濟發展。」上述現象是何種觀念所帶來的影響？ (A)種姓制度 (B)一神論 (C)謹守「五功」 (D)長幼尊卑的觀念 (E)沒有宇宙起源的說法。

**解答** A

**解析** 階級、職業皆為世襲。

- ( )18. 右圖為南亞三種重要作物的分布圖。

若其代表水稻、棉花、小麥的分布，則正確順序為： (A)甲乙丙 (B)甲丙乙 (C)乙甲丙 (D)乙丙甲 (E)丙乙甲。



**解答** B

- ( )19. 棉、毛紡織與製糖是印度大平原西部的傳統工業，此乃因本區為： (A)原料產地 (B)市場廣大 (C)勞力充足 (D)能源充足 (E)交通便利。

**解答** A

- ( )20. 德里於英國殖民時代後期，取代了加爾各答成為印度的行政中心，此與其何種位置有密切相關？ (A)位於半島的中央 (B)位於恆河上游 (C)自古為印度的宗教聖地 (D)自古為印度的經濟重心 (E)位居內陸不易受到攻擊。

**解答** E

**解析** 同時與巴基斯坦因喀什米爾問題對立時，有較佳之軍事位置。

- ( )21. 位於印度東北角的阿薩姆地區向以栽培何種經濟作物著稱？ (A)茶葉 (B)甘蔗 (C)黃麻 (D)咖啡 (E)橡膠。

**解答** A

- ( )22. 印度西北的喀什米爾地區因統治者與被統治者的宗教信仰不同，導致本區紛爭不斷。統治者與被統治者分別信仰何種宗教？ (A)錫克教、伊斯蘭教 (B)佛教、基督教 (C)印度教、錫克教 (D)印度教、伊斯蘭教 (E)基督教、錫克教。

**解答** D

- ( )23. 阿財於寒假時造訪印度德里附近之名勝泰姬瑪哈陵，據說是十七世紀統治印度之莫臥兒王朝皇后陵墓，外觀色調單純，柔麗精細，有醒目的圓形屋頂，觀賞其內部風格，發現全無人物紀念雕像或神像，請問該建築為印度何種文化之建築代表？ (A)印度教 (B)佛教 (C)耆那教 (D)伊斯蘭教 (E)錫克教。

**解答** D

**解析** 印度教、佛教皆有偶像崇拜等特徵。

- ( )24. 下列何區氣候最為溼熱，是印度主要熱帶栽培業的分布區？ (A)德干高原中北部 (B)德干高原南部沿海平原 (C)印度河中、下游 (D)恆河中、上游 (E)查摩 - 喀什米爾。

**解答** B

- ( )25. 下列何事件的發生，導致孟買成為印度半島西部最大的港埠？ (A)政治重心轉移至德里 (B)綠色革命的推行 (C)實施一連串的經濟計畫 (D)蘇伊士運河啟用 (E)印度脫離英國獨立。

解答 D

解析 蘇伊士運河開通使國際航線西移。

( )26. 綠色革命是許多開發中國家增加糧產的方法之一，其對印度的影響為： (A)縮小印度國內的貧富差距 (B)對灌溉系統的需求增加 (C)使農地所有權分割更零碎 (D)人口成長減緩 (E)加速都市化的進行。

解答 B

解析 加大貧富差距，成效不彰。

( )27. 下列何者是印度半島最重要的糧食作物？ (A)高粱 (B)小米 (C)小麥 (D)水稻 (E)玉米。

解答 D

( )28. 世界降水量最多之一的「乞拉朋吉」，其降雨的類型是： (A)甲 (B)乙 (C)丙 (D)丁 (E)戊。



解答 C

解析 乞拉朋吉在山坡地上，迎西南季風，多地形雨。

( )29. 印度法定官方用語為： (A)印地語 (B)泰盧固語 (C)旁遮普語 (D)馬拉地語 (E)德拉威語。

解答 A

( )30. 印度哪一種宗教的教徒是能幹的商人、農人、醫生、工程師和計程車司機，多數生活富裕？ (A)印度教 (B)基督教 (C)錫克教 (D)耆那教 (E)伊斯蘭教。

解答 C

( )31. 印度錫克教，該教主要的分布地區是： (A)古茶拉底邦 (B)東北部阿薩姆地區 (C)西北部的查摩 喀什米爾地區 (D)半島西南沿海地區 (E)旁遮普邦。

解答 E

( )32. 印度社會貧富差距大，且阻礙整體經濟發展，其最根本原因為何？ (A)自然環境惡劣 (B)種姓制度的束縛 (C)政治上動盪不安 (D)種族、宗教、語言複雜 (E)經濟結構轉變迅速。

解答 B

解析 種姓制度強調階級制，人不能盡其才。

( )33. 印度半島上，因種族、宗教、語言複雜，而成為最動盪不安的地區是： (A)喀什米爾 (B)阿薩姆 (C)旁遮普 (D)古茶拉底 (E)安德拉。

解答 C

解析 印、巴分立後，錫克教徒常策劃恐怖活動。

( )34. 孟加拉於 1971 年脫離巴基斯坦獨立，原因為： (A)分屬不同宗教 (B)語系不同 (C)分屬回教什葉派與遜尼派 (D)位置分隔不利統一。

解答 D

( )35. 印度半島上，旁遮普該地區的居民主要信奉何種宗教？ (A)印度教 (B)伊斯蘭教 (C)耆那教 (D)錫克教 (E)基督教。

解答 D

( )36. 每年夏、秋之際造成孟加拉嚴重水患的「旋風」，與下列哪一張圖最一致？ (A)甲 (B)乙 (C)丙 (D)丁 (E)戊。



解答 E

解析 造成孟加拉（位於北半球）嚴重水患的「旋風」即為氣旋（即臺灣的颱風），因此旋轉方向為逆時針由外向內旋轉。

( )37. 南亞地區北有高山屏障，自成一封閉區域，但境內仍分屬多國，主要受哪一因素的影響？ (A)宗教 (B)經濟 (C)水文 (D)地形 (E)氣候。

解答 A

( )38. 印度半島在二次大戰後，民族自決紛紛獨立，形成分裂的國家(巴基斯坦 印度及孟加拉)，主要和哪一因素有關？ (A)生活方式 (B)生產方式 (C)宗教 (D)地形 (E)氣候。

解答 C

- ( )39. 印度文化中,太陽象徵邪惡和毀滅,而雨水帶來歡樂歌聲和喜慶,下列何時屬於印度的雨季? (A)1月 (B)3月 (C)5月 (D)7月 (E)11月。

解答 D

- ( )40. 臺灣人若要到印度半島旅遊,欲選印度最舒適的時間去玩,則下列哪一臺灣節日最恰當? (A)春節 (B)清明節 (C)端午節 (D)暑假 (E)教師節。

解答 A

解析 印度半島 10 月到隔年 2 月為涼季,因此春節最適宜。

- ( )41. 素有「印度糧倉」之稱的地區是: (A)印度大平原中部 (B)印度大平原西部 (C)恆河下游平原 (D)德干高原中部 (E)西南部沿海平原。

解答 B

- ( )42. 德干高原東北部的「哲雪舖」,已發展成鋼鐵工業重鎮,其工業區位是: (A)原料 (B)動力 (C)勞工 (D)市場 (E)政策。

解答 A

解析 哲雪舖附近有煤、鐵等礦產。

- ( )43. 「孟買」發展成為印度半島西岸的最大港埠,與下列哪些因素有密切關係? (甲)葡萄牙人的刻意經營; (乙)主要國際貿易路線的轉移; (丙)附近盛行熱帶栽培業; (丁)大量輸出附近的煤、鐵、錳等礦產; (戊)接近棉花產地。正確者為: (A)甲丙 (B)乙丁 (C)丙戊 (D)甲丁 (E)乙戊。

解答 E

解析 蘇伊士運河開通。

- ( )44. (甲)不丹; (乙)馬爾地夫; (丙)尼泊爾; (丁)斯里蘭卡。以上何者為南亞地區的島國? (A)甲乙 (B)乙丙 (C)丙丁 (D)甲丁 (E)乙丁。

解答 E

解析 馬爾地夫、斯里蘭卡分居印度半島南端兩側。

- ( )45. 喜馬拉雅山橫亘於中、印二國之間,其東端遭雅魯藏布江所橫切,形成廣大缺口,此一地形之變化與以下哪一地理現象最具關聯性? (A)日照由此缺口射入,使本區太陽輻射量為中國第一 (B)使拉孜成為藏南縱谷內農牧並行與純牧等不同經濟活動的分界線 (C)使得高原上年、日溫差均大 (D)使印度洋夏季季風能為藏南縱谷帶來暖溼的氣候 (E)使高原成為眾多大河之源地。

解答 D

- ( )46. 印度和巴基斯坦之間,為爭奪哪一地區引起戰爭? (A)尼泊爾 (B)不丹 (C)喀什米爾 (D)斯里蘭卡 (E)孟加拉。

解答 C

- ( )47. (甲)平原; (乙)高原; (丙)山地。印度半島的地形由北向南排列,其順序為何? (A)乙丙甲 (B)甲乙丙 (C)丙乙甲 (D)丙甲乙 (E)乙甲丙。

解答 D

- ( )48. 印度半島西北部塔爾沙形成的主要原因為何? (A)位於山脈背風側 (B)沿海有涼流經過 (C)位於副熱帶高壓帶下方 (D)深居大陸內陸 (E)周圍有高山圍繞。

解答 C

- ( )49. 印度半島人口分布以恆河三角洲最稠密,西北部最稀疏,影響此種差異的主因為何? (A)雨量多寡 (B)緯度高低 (C)種族差異 (D)礦產有無 (E)政府政策。

解答 A

解析 恆河三角洲迎西南季風,雨量豐富,又屬平原地帶,農產豐富,故人口稠密。

- ( )50. 印度半島各地雨量受地形及區位影響而有極大差異,其中最乾燥的區域分布在哪裡? (A)西高止山東坡 (B)西高止山西坡 (C)印度河中、下游 (D)恆河中、上游 (E)德干高原南部。

解答 C

解析 (C)為塔爾沙漠分布區。

- ( )51. 南亞依緯度來看,應為乾燥地區,但卻能大部分擺脫沙漠氣候之威脅,其主因為何? (A)季風吹拂 (B)緯度較低 (C)高山屏障 (D)人工改造 (E)海洋環繞。

解答 A

解析 大部分位居亞洲季風帶中,可由西南季風帶來降雨。

- ( )52. 印度阿薩密邦的年雨量近 12000mm,其形成原因可能有: (甲)緯度高低; (乙)地形高低 (丙)季風風向; (丁)洋流流向。正確的是哪一

組？ (A)甲乙 (B)乙丙 (C)丙丁 (D)甲丙 (E)乙丁。

**解答** B

**解析** 阿薩密位於迎風的山區。

( )53. 下列哪一種氣候類型不包括在南亞地區？ (A)熱帶季風 (B)副熱帶季風 (C)高山氣候(D)熱帶雨林 (E)溫帶沙漠。

**解答** E

**解析** 南亞只有熱帶沙漠。

( )54. 印度半島夏季主要的風向為何？ (A) (B) (C) (D) (E) 。

**解答** C

( )55. 印度西北部旁遮普省的錫克教徒原本愛好和平，後來轉趨強悍，是因為在十八世紀受何者的迫害而改變？ (A)印度教 (B)伊斯蘭教 (C)基督教 (D)佛教 (E)耆那教。

**解答** B

( )56. 右圖為南亞簡圖。

甲 癸分別代表九個地區，各地區均有獨特的地理特色，請問昔日伊斯蘭教徒由何處入侵印度半島？ (A)甲 (B)乙 (C)丙 (D)丁 (E)戊。



**解答** A

**解析** 甲處的開伯爾山口為南亞西北方的重要門戶。

( )57. (甲)印度教；(乙)基督教；(丙)佛教；(丁)伊斯蘭教；(戊)錫克教。分布在印度的各宗教，信徒人口占前三名者依次為何？ (A)甲乙丙 (B)甲丙乙 (C)甲丁乙 (D)丙甲丁 (E)甲丁戊。

**解答** C

( )58. 關於印度種姓制度的敘述，何者錯誤？ (A)印度社會有四大種姓 (B)四大種姓之下還有「賤民」階級 (C)賤民和首陀羅可以學習吠陀經典 (D)種姓階級必須世襲，代代相傳 (E)許多低級種姓的印度教改信其他宗教。

**解答** C

**解析** (C)不可以。

( )59. 南亞地區因為和印度宗教信仰不同，導致影響政治，經濟發展差異甚大的是哪兩個國家？ (A)尼泊爾、不丹 (B)斯里蘭卡、馬爾地夫 (C)孟加拉、巴基斯坦 (D)尼泊爾、巴基斯坦 (E)不丹、孟加拉。

**解答** C

**解析** 孟加拉、巴基斯坦信奉回教，與印度信奉印度教之政治經濟發展大大不同。

( )60. 印度半島自成一個封閉的地理區，影響其族群分布的最主要因素為何？ (A)地形(B)氣候 (C)水文 (D)政治 (E)作物分布。

**解答** A

**解析** 印度因為地形複雜，族群眾多。

( )61. 印度平原上最主要的河川，也是印度教徒眼中的「聖河」是指哪一條？ (A)印度河(B)恆河 (C)布拉馬普得拉河 (D)戈達瓦里河 (E)納爾默達河。

**解答** B

( )62. 德干高原的岩層與構造，與下列哪一地區最類似？ (A)中南半島 (B)朝鮮半島(C)阿拉伯半島 (D)印尼群島 (E)日本群島。

**解答** C

**解析** 該地為古老陸塊。

( )63. 德干高原雨量較少，耕作依賴灌溉，其少雨是由什麼原因造成？ (A)位於副熱帶高壓帶下方 (B)西南季風被西高止山阻擋 (C)東北季風被東高止山阻擋 (D)受沿海寒流影響 (E)鄰近塔爾沙漠。

**解答** B

( )64. 印度半島脫離英國統治後，獨立之初即分為印、巴二國，主要是什麼因素造成？ (A)人種(B)宗教 (C)交通 (D)經濟 (E)地形。

**解答** B

( )65. 關於德干高原的敘述，下列何者錯誤？ (A)為古老結晶岩地塊 (B)西北部為熔岩覆蓋，發育出黑棉土 (C)富含煤、鐵、錳等礦物 (D)

河川多向西流入孟加拉灣 (E)高原東西兩岸多三角洲，多闢為水稻田。

**解答** D

**解析** (D)改成東流入孟加拉灣。

( )66. 阿薩密的乞拉朋吉為世界最多雨地區，其主要降雨類型何？ (A)對流雨 (B)氣旋雨 (C)熱雷雨 (D)颱風雨 (E)地形雨。

**解答** E

( )67. 下列哪一個半島有「次大陸」之稱？ (A)朝鮮半島 (B)中南半島 (C)印度半島 (D)阿拉伯半島 (E)斯堪地半島。

**解答** C

( )68. 「位於德干高原西岸沿海小島，水陸交通便利，為重要棉市、棉織中心，並為一大港口。」以上文字是描述下列哪一都市？ (A)孟買 (B)達卡 (C)喀拉蚩 (D)多倫坡 (E)哲雪鋪。

**解答** A

( )69. (甲)小麥；(乙)稻米；(丙)棉花。依氣候條件，恆河由下游往上游，其作物分布依序為何？ (A)甲乙丙 (B)甲丙乙 (C)乙甲丙 (D)乙丙甲 (E)丙乙甲。

**解答** C

**解析** 稻米需水較多，小麥、棉花為旱作。

( )70. 關於印度大平原東部的敘述，下則何者錯誤？ (A)以稻米、黃麻為主要作物(B)為印度經濟最發達的地區 (C)最大都市哲雪鋪為鋼鐵中心 (D)地勢低平，雨量豐富 (E)為世界人口稠密區之一。

**解答** C

**解析** 最大都市為加爾各答。

( )71. 印度半島年平均降水量可達 1134mm，但各地仍有顯著差異，此種現象與下列哪些因素密切相關？(甲)地形；(乙)氣團；(丙)風向；(丁)洋流；(戊)緯度。正確者為： (A)甲丙 (B)乙丁 (C)丙戊 (D)甲乙 (E)丙丁。

**解答** A

( )72. 「美國片商曾在此地拍過電影「歡喜城」，該城市位於河流下游，由於地勢低平，雨季常發生水災，人力車的車伕在水過膝蓋的街道仍然拉車載客。」上述文字最可能描述印度哪一個都市？ (A)孟買 (B)加爾各答 (C)德里 (D)哲雪鋪 (E)拉合爾。

**解答** B

**解析** (B)其位於恆河下游。

( )73. 印度在西元兩千年已超過十億人口，受教育比率低，百姓貧富差距大，但社會穩定的主要原因為何？ (A)專制統治 (B)氣候適宜 (C)資源豐富 (D)佛教影響 (E)傳統種姓制度約制。

**解答** E

( )74. 印度河中下游的灌溉地區主要的旱作物為何？ (A)玉米 (B)甘蔗 (C)棉花 (D)小麥 (E)小米。

**解答** C

( )75. 下列哪一組作物為印度西南部沿海地區的代表作物？ (A)稻米、黃麻 (B)棉花、花生(C)小麥、小米 (D)橡膠、咖啡 (E)茶葉、可可。

**解答** D

**解析** 此區較溼熱，發展熱帶栽培業。

( )76. 右圖為南亞簡圖。

甲 戊五條線，哪一條為北回歸線？ (A)甲 (B)乙 (C)丙 (D)丁 (E)戊。



**解答** B

**解析** 約在塔爾沙漠附近通過。

( )77. 下列哪一個因素最能說明今日南亞眾多國家分立的局勢？ (A)宗教分歧 (B)人種雜處(C)爭奪資源 (D)地形複雜 (E)氣候差異。

**解答** A

**解析** 伊斯蘭教、佛教、印度教皆有。

( )78. 印度河平原和美索不達米亞平原同為世界古文明的發源地，這兩個地區最大的共同點是氣候皆屬於： (A)熱帶雨林氣候 (B)熱帶季風氣候 (C)熱帶沙漠氣候 (D)高山氣候 (E)溫帶地中海型氣候。

**解答** C

( )79. 民國 87 年 5 月，印度不顧國際反對的壓力，在其國內進行一連串的核子試爆。就人口分布的因素而論，施行試爆的地點，應在下列哪一個地區？ (A)德干高原中部 (B)德干高原南端 (C)印度大平原東部 (D)印度大平原西部 (E)喜馬拉雅山中段。

**解答** D

**解析** 此區為塔爾沙漠，人口少。

( )80. 前世界銀行亞洲區副總裁曾指出：「在印度，土壤侵蝕、土質鹽化、淹水和過度放牧，已使約 45%的耕地變為不毛之地。」印度土壤的容易鹽化和該地哪一項自然特性最具有關連？ (A)德干高原地勢由西向東傾斜 (B)印度半島氣候分雨、涼、熱三季 (C)北部喜馬拉雅山是一條新褶曲山地 (D)印度大平原在地質時代原是一條海溝 (E)德干高原西北部的土壤由火山熔岩風化而成。

**解答** B

**解析** 因氣候分三季，乾、溼季的差異太大，易導致土地退化。

( )81. 「印度德干高原西有西高止山，東有東高止山；西高止山較東高止山高而長，高原地勢由西向東緩斜。」德干高原哪一項地理現象與上述地形特徵的關係最密切？ (A)高原本體是一片古老的結晶岩地塊 (B)高原東北部富藏煤、鐵、磷等礦，工礦業發達 (C)高原西北部的土壤為火山熔岩風化而成的黑色土 (D)高原西岸的孟買為印度最大棉市場和重要棉紡織中心 (E)高原上的農業以棉花、小麥、小米為主，耕作多賴灌溉。

**解答** E

**解析** 因西高止山阻擋西南季風，使德干高原較為乾燥，作物仰賴灌溉。

( )82. 印度半島的季節可分為：(甲)熱季；(乙)雨季；(丙)涼季。若由每年 1 12 月的順序排列是： (A)甲乙丙甲 (B)乙丙甲乙 (C)丙甲乙丙 (D)乙甲丙乙 (E)丙乙甲丙。

**解答** C

**解析** 11 2 月涼季；3 5 月熱季；6 10 雨季。

( )83. 印度半島地處熱帶至副熱帶，幅員廣大，其氣候特徵為： (A)氣候炎熱，沒有涼季 (B)夏季季風為東南風 (C)雨量豐沛，以地形雨著稱 (D)降雨來自颱風雨 (E)雨量由北向南增加。

**解答** C

**解析** (B)改為西南季風。

( )84. 印度半島氣候年分三季，即 6 10 月的雨季，11 2 月的涼季，3 5 月的熱季。這種季節的更替，除日射移動外，主要係受哪一項因素的影響？ (A)地形 (B)緯度 (C)洋流 (D)季風 (E)氣旋。

**解答** D

**解析** 乾溼季與季風有密切相關。

( )85. 印度半島上每年的季節變化，主要受何種因素之影響？ (A)緯度 (B)地形 (C)洋流 (D)氣旋 (E)季風。

**解答** E

**解析** 其分為涼季、熱季、雨季與季風的降水關係密切。

( )86. 印度半島上沒有「冬季」的主要原因是： (A)緯度位置偏低 (B)北部有高山屏障 (C)海洋的調劑 (D)副熱帶高壓帶籠罩 (E)太陽直射時間較長。

**解答** B

**解析** (B)使寒流難以入侵。

( )87. 印度半島「不可能」出現下列何種氣候類型？ (A)高山氣候 (B)熱帶雨林氣候 (C)熱帶季風氣候 (D)地中海型氣候 (E)沙漠氣候。

**解答** D

**解析** 地中海型氣候須在緯度約 35°以上才會出現。

( )88. (甲)佛教；(乙)錫克教；(丙)回教；(丁)印度教；(戊)基督教。上述宗教哪些源於印度半島？ (A)甲丁 (B)乙丙 (C)丁戊 (D)甲乙丁 (E)甲丙丁。

**解答** A

( )89. 在印度推廣「綠色革命」成效不彰的最主要因素是： (A)化學肥料不足 (B)缺乏資金 (C)居民缺乏意願 (D)灌溉設施落後 (E)國際市場太小。

**解答** B

( )90. 右圖為印度的新德里與中國的長沙兩地的氣溫比較表。請問：

造成兩地冬季氣溫差異的主要因素為何？ (A)緯度 (B)地形 (C)植被 (D)洋流 (E)風向。

地點	新德里	長沙
月份		
北緯	28° 39'	28° 12'
高度 (m)	219	60
冬季月均溫	15°C	7°C
	15°C	4°C
	17°C	6°C

**解答** B

( ) 91. 「該國地勢低平，經常遭受洪患，全國人口達一億以上，百姓生活貧困，平均每人年收入僅約 360 美元（2000 年），伊斯蘭教為其主要信仰。」此段敘述是指稱： (A)菲律賓 (B)印尼 (C)孟加拉 (D)巴基斯坦。

**解答** C

**解析** 南亞的政局和宗教有很大的關係，在認識南亞國家時必須了解其民眾主要的信仰為何。文中這個國家的主要宗教為伊斯蘭教，南亞信奉伊斯蘭教的國家和地區有巴基斯坦、孟加拉和喀什米爾。「地勢低平」一詞點出該國家的地形特徵為平原或沖積區，故處於板塊交界的菲律賓和印尼就不會是答案了。

( ) 92. 下表是南亞五個國家之主要宗教的信仰人口比例(%)，表中丙、丁是指哪兩個國家？ (A)孟加拉、斯里蘭卡 (B)巴基斯坦、印度 (C)尼泊爾、斯里蘭卡 (D)巴基斯坦、孟加拉。

國家	印度教	伊斯蘭	佛教	基督教	其他
甲	80	11	1	2	6
乙	2	95	-	2	1
丙	12	87	-	-	1
丁	-	8	70	8	14
戊	89	3	5	-	3

**解答** A

**解析** 南亞的各國宗教複雜。印度以印度教為主；巴基斯坦 - 孟加拉多回教；斯里蘭卡（錫蘭）多佛教。表中丙國以伊斯蘭教（回教）占大部分，丁國以佛教為主，故說(A)。

## 二、綜合題

1. 「根據考古發掘證實，西元前 3000 年代中期，印度河流域曾興起許多城市，這些城市布局整齊，主要街道寬達 10 公尺，分別向東西和南北整齊排列，房間一般用磚砌成，既有簡陋的小屋，也有設計精美的宮殿。其次，農業是主要生產部門，當地居民是世界最早種植棉花的人。上述文明為後來印度文化的發展打下了基礎。」試問：

(1)印度半島上的此一高度文明，其發展的地理基礎，據推測和下列何者最具關連？ (A)「雅利安」人的侵入與文化的移植 (B)季風的潤澤 (C)鄰區入境的河川 (D)伊斯蘭教的擴散。

(2)該文明最凸顯的「文化」地理特色是什麼？ (A)貧富懸殊與階級對立 (B)種姓制度的建立 (C)農業的創立 (D)綠洲文化。

(3)就印度歷史上的種族遷移經驗與空間散布的事實而言，建立此一文明的種族應該是何者？ (A)澳洲——匹美人種 (B)雅利安人種 (C)釋迦族 (D)地中海人種德拉威（達羅毗 人）人。

**解答** (1)A (2)B (3)B

2. (1)關於印度種姓制度的敘述，何者錯誤？ (A)印度社會有四大種姓 (B)四大種姓之下還有「賤民」階級 (C)只有賤民被隔絕於宗教活動之外 (D)種姓階級必須世襲，代代相傳 (E)許多低級種姓的印度教改信其他宗教。

(2)印度國父甘地，雖然提倡民族主義，在第二次世界大戰後脫離英國而獨立，但卻無法解決複雜的何種因素，導至印度分裂？ (A)種族 (B)語言 (C)經濟 (D)宗教 (E)人口。

(3)印度再脫離英國獨立後，分裂為印度教為主的印度，與回教為主的巴基斯坦，哪一地區因與西巴基斯坦沒有接壤而再次分裂？ (A)馬爾地夫 (B)孟加拉 (C)尼泊爾 (D)不丹 (E)錫蘭。

(4)1984 年，印度精神領袖甘地夫人被暗殺，導因於哪一教徒長期爭取獨立的恐怖活動？ (A)印度教 (B)耆那教 (C)錫克教 (D)佛教 (E)伊斯蘭教。



解答 (1)C (2)D (3)B (4)C

3. 南亞形勢完整封閉，有「次大陸」之稱，我們又可依其不同的自然環境區分為幾個地理區：

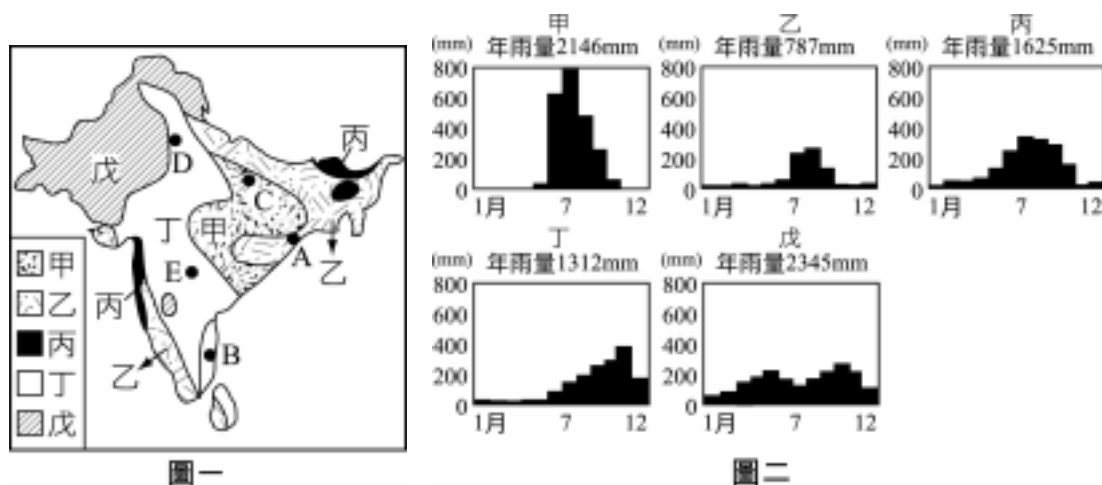
(甲)喜馬拉雅山西段、喀什米爾；(乙)喜馬拉雅山東段、阿薩姆地區；(丙)印度河平原；(丁)恆河平原；(戊)德干高原，請回答以下問題：

- (1)若以農業條件來看，何者最佳？ (A)甲 (B)乙 (C)丙 (D)丁 (E)戊。
- (2)印度與巴基斯坦為了爭奪哪一範圍常常引發紛爭？ (A)甲 (B)乙 (C)丙 (D)丁(E)戊。
- (3)哪一地理區因為有豐沛的雨量以及地形上的優勢，所以成為世界上茶葉的主要生產地？ (A)甲 (B)乙 (C)丙 (D)丁 (E)戊。
- (4)哪一地區的氣候最為乾燥，甚至已經形成了沙漠景觀？ (A)甲 (B)乙 (C)丙 (D)丁 (E)戊。
- (5)哪一地區因為地質結構古老，所以擁有豐富的金屬礦？ (A)甲 (B)乙 (C)丙 (D)丁 (E)戊。
- (6)哪一地區因地勢低窪，故常有水患發生？ (A)甲 (B)乙 (C)丙 (D)丁 (E)戊。

解答 (1)D (2)A (3)B (4)C (5)E (6)D

4. 下圖為印度半島，甲、乙、丙、丁、戊代表五種降雨量分區，A、B、C、D、E 代表 5 個都市，試依圖回答下列問題：

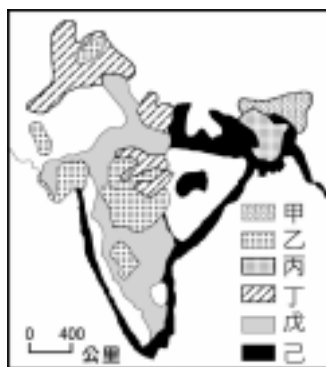
- (1)雨量由少而多排列依序應是： (A)戊丁甲丙乙 (B)戊甲丁乙丙 (C)戊丁丙甲乙 (D)乙丁丙甲戊 (E)戊乙丙丁甲。
- (2)「印度在此處攔水閘、建水壩，由於蒸散作用強烈，土壤鹽化加速、土壤侵蝕，耕地沙漠化。」以上描述最接近哪一代號處的景觀？ (A)A (B)B (C)C (D)D (E)E。
- (3)圖(二)為南亞的 5 個都市氣候圖，試判斷哪一氣候圖降雨的季節分布最能代表圖(一)中的「B」地？ (A)甲 (B)乙 (C)丙 (D)丁 (E)戊。
- (4)印度人口眾多，水旱災頻繁，近年來首先在何代號處進行「綠色革命」，致力於灌溉工程及引進高產量的小麥、水稻品種？ (A)A (B)B (C)C (D)D (E)E。
- (5)承上題，「綠色革命」進行同時，出現最大的問題是： (A)土地沙漠化 (B)農產品市價上揚 (C)貧者愈貧、富者愈富 (D)每人的耕地增大 (E)勞力外流。



解答 (1)D (2)D (3)D (4)D (5)C

5. 右圖為印度六種農作物分布圖，試回答下列問題：

- (1)稻米、小麥主要各分布於哪一組代號區？ (A)戊己 (B)丙戊 (C)己丁 (D)甲丁 (E)丙丁。
- (2)造成此一土地利用差異，主要因素是： (A)高度 (B)土壤沃度 (C)氣溫 (D)降雨量 (E)距海遠近
- (3)棉花主要分布在哪一代號區？ (A)甲 (B)乙 (C)丙 (D)丁 (E)戊。



解答 (1)C (2)D (3)B

6. 孟加拉為印度半島地區的貧窮國家，天災頻仍，農業為主，全國人口眾多，且多數人處於饑餓狀態，請問：

- (1)該國天災與以下哪一因素關係最小？ (A)地勢過於低窪 (B)年降雨量過多 (C)降雨季節集中 (D)孟加拉灣反氣旋 (E)境內河流水道多。
- (2)就原料區位加以考慮，該國最適合何項工業的發展？ (A)棉紡織 (B)鋼鐵工業 (C)黃麻加工 (D)麵粉工業 (E)成衣工業。

解答 (1)D (2)C

解析 (D)應為氣旋，及氣旋為高壓。

7. 右圖為描繪印度普遍家庭狀況的漫畫；請依圖回答下列問題：

- (1)導致該國人口快速成長的最重要因素可能是： (A)糧食增產 (B)社會增加 (C)死亡率低 (D)出生率高 (E)重男輕女的觀念。

- (2)該國重男輕女的觀念最可能帶來的影響是：(A)性別比值漸低 (B)各年齡層男性死亡率偏高 (C)女性無法負擔家計勞務 (D)各年齡層的女性識字率皆一般低 (E)女權運動盛行，男女就業機會均等。
- (3)在印度除女性歧視問題外，從漫畫推知印度可能尚有哪一人口問題？(A)饑荒貧窮 (B)高失業率 (C)人口流失 (D)種族衝突 (E)人力資源匱乏。



**解答** (1)D (2)D (3)A

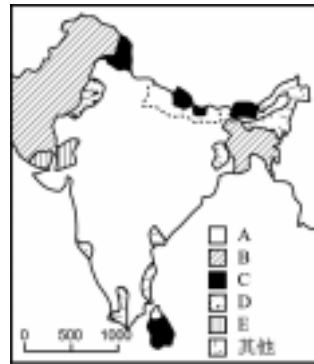
- 8.「近來愈來愈多農村人口為擺脫水旱災、或是佃農貧苦的生活，一批批湧入這個城市。使得不論白天或入夜總是一副人山人海的樣子；白天人們找尋餬口工作機會，夜間無家可歸地成排露宿街頭。在季風來臨的前夕，燥熱的氣候、隆隆的車聲與黑煙，更使空氣中瀰漫著令人難耐的氣味。即使在城市中，『龍生龍』、『門當戶對』、『職業分貴賤』等舊有觀念仍然存在。」請回答下列問題：

- (1)該城市最能反映出哪一地區的何種區域特色？(A)西亞 - 民族、宗教複雜引發衝突 (B)東亞 - 糧食生產無法配合人口成長的速度 (C)南洋群島 - 華人與原住民社經地位懸殊而有排華情結 (D)中南半島 - 內戰紛亂導致經濟落後 (E)南亞 - 都市建設跟不上都市化速度。
- (2)該文所描述的市區狀況，最可能是幾月份？(A)2月 (B)4月 (C)7月 (D)10月 (E)12月。
- (3)該城市的舊有觀念主要根源自：(A)宗教信仰 (B)法律規定 (C)農業社會 (D)列強殖民 (E)天災頻頻。

**解答** (1)E (2)B (3)A

- 9.右圖為印度半島主要宗教分布圖。試問：

- (1)第一次世界大戰後聖雄甘地以戒殺生不報復的宗教觀，呼籲印度各族群放棄血腥殺戮，發起一場和平進行的不合作運動以對抗英國殖民爭取獨立，請問此一獲得大多數印度人認同的為圖中何種宗教？(A)甲 (B)乙 (C)丙 (D)丁 (E)戊。



- (2)圖中何種宗教因歷史心結由非暴力的教義轉為軍事化色彩，爭取旁遮普省獨立，至今仍為印度動亂之因？(A)甲 (B)乙 (C)丙 (D)丁 (E)戊。
- (3)主張屠宰大量牛羊隻向神獻祭可以贖罪的為圖中何種宗教？(A)甲 (B)乙 (C)丙 (D)丁 (E)戊。

**解答** (1)A (2)D (3)B

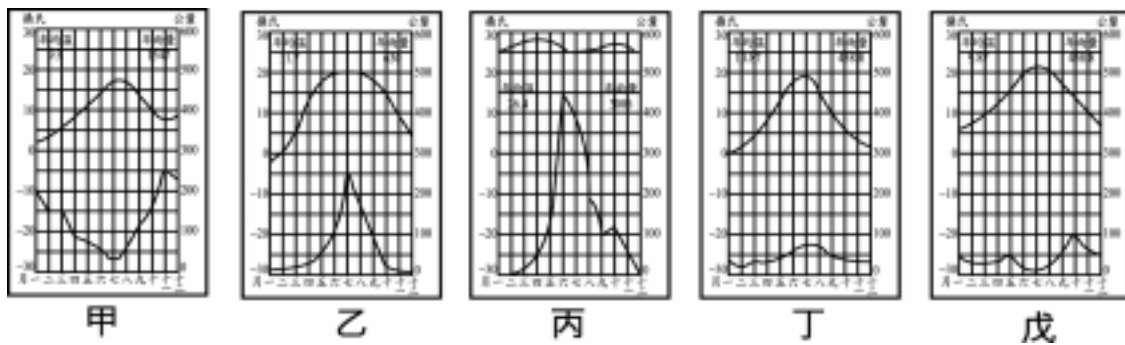
- 10.孟加拉濱臨孟加拉灣，西、北、東為印度包圍，東南與緬甸接壤，且位於布拉馬普得拉河及恆河三角洲上。請問：

- (1)就地理位置而言，該國最易遭受的天災是：(A)龍捲風 (B)地震 (C)水災 (D)旱災。
- (2)該國面臨真正的大難題，首推：(A)人口密度高和糧食短缺 (B)人口湧向都市和農業生產率低 (C)宗教和語言複雜 (D)鄰國競爭和工業條件薄弱。

**解答** (1)C (2)A

- 11.位於喜馬拉雅山區的尼泊爾，作物多種在山區，由於土地貧瘠，窮困的農民砍伐森林作為燃料取暖做飯，但季風季節的雨水加速了土壤的流失，造成山崩與坍方，失去了可耕地的居民，為了尋找新耕地，不得不再次砍伐森林，造成惡性循環。流失的土壤更造成下游平原的淤積，當大雨降臨時，某一海拔只有幾公尺的國家，由於地勢低窪，排水不良，上百公噸的土地頓時成了一片汪洋。請問：

- (1)上述「季風季節的雨水加速了土壤的流失」的現象較可能發生於何時？(A)1 2月 (B)3 5月 (C)6 10月 (D)11 12月 (E)全年皆可能。
- (2)「某一海拔只有幾公尺的國家，由於地勢低窪，排水不良，上百公噸的土地頓時成了一片汪洋。」文中主要所指哪一國家？(A)孟加拉 (B)緬甸 (C)不丹 (D)印度 (E)泰國。
- (3)承上題，下列何者可能為此國的氣溫雨量圖？(A)甲 (B)乙 (C)丙 (D)丁 (E)戊。

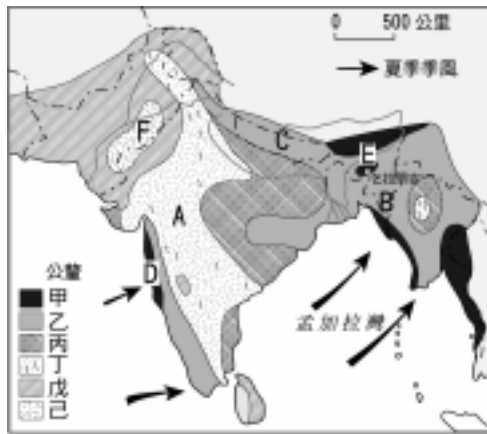


**解答** (1)C (2)A (3)C

**解析** (1)選具有「普遍高溫，雨量集中」特徵者。

12. 右圖為印度半島的雨量分布圖，試依該圖回答下列問題：

- (1)圖中箭頭代表哪一季節的盛行風風向？
- (2)A F區中，雨量最多的地方是哪一區？其降雨型態主要屬於哪一種？
- (3)承上題，該地區最重要的經濟作物為何？
- (4)F區是雨量最少的地方，屬於熱帶沙漠氣候。此區形成該種氣候的主要原因是什麼？又該沙漠的名稱是什麼？



**解答** (1)夏季(2)E；地形雨 (3)茶 (4)位於副熱帶高壓帶；塔爾沙漠

13. 恆河上游曾進行一項「綠色革命」，對於糧食生產造成衝擊，請回答下列問題：

- (1)該地綠色革命是指哪兩種作物的增產？(甲)稻米；(乙)小麥；(丙)玉米；(丁)小米。正確的是：(A)甲乙 (B)乙丙 (C)甲丙 (D)甲丁 (E)乙丁。
- (2)綠色革命造成之影響，下列何者正確？(A)農民生活獲得重大改善 (B)農作物的市場價格大漲 (C)貧富差距加大 (D)農民不須投入太多資金 (E)農地變得更加完整。

**解答** (1)A (2)C

**解析** (2)小農與佃農無能力購買化肥、除草劑等，無法進行糧食增產，故依然貧困。

14. 右圖為南亞簡圖，甲 癸分別代表九個地區，各地區均有獨特的地理特色，請回答下列問題：

- (1)昔日伊斯蘭教徒由何處入侵印度半島？(A)甲 (B)乙 (C)丙 (D)丁 (E)戊。
- (2)印度本土地質上屬於古老結晶岩地者為何？(A)甲 (B)庚 (C)己 (D)戊 (E)癸。
- (3)何地全年有雨？(A)甲 (B)乙 (C)丙 (D)丁 (E)戊。
- (4)氣候上最乾旱的地區為何？(A)甲 (B)己 (C)庚 (D)辛 (E)癸。



**解答** (1)A (2)B (3)B (4)D

**解析** (2)乙島為斯里蘭卡，夏迎西南季風，冬迎東北季風，全年有雨；(3)辛區為塔爾沙漠，位於副熱帶高壓帶之下方，且夏季西南季風不易吹到，故為沙漠區。

15. 改錯題：請在下面兩則短文中，在劃線部分各找出兩個錯誤的代號，並加以更正。

(1)「馬來西亞北連東南亞大陸本土，南近印尼群島，可以說是貫穿南北的陸橋，(甲)地點良好。氣候上，該國位處熱帶季風區內，(乙)東北風和西南風輪番交替，半島沿岸成為古代順風而行的航海商人交匯點。十九世紀英國人控制馬來西亞，並大力拓展以(丙)咖啡為主的(丁)熱帶栽培業，和錫礦開發，並大量引進(戊)華人和印度勞工，使該國成為多民族國家。」

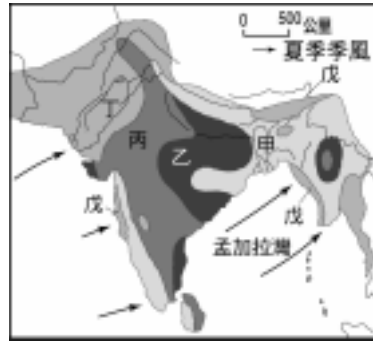
(2)「印度喜馬拉雅山山地可分為東北角的阿薩姆地區和西北角的喀什米爾兩部分。阿薩姆地區人口稀少，屬於(A)漢藏語系。由於受到(B)東北季風的影響，是全世界雨量最多的地區。經濟作物以(C)茶葉為主。喀什米爾的居民，大多為(D)印度教教徒，屬於(E)雅利安語系。(F)林木是該區重要富源。」

**解答** (1)甲：位置良好；丙：橡膠 (2)(B)：西南季風；(D)：伊斯蘭教

**解析** 一地的對外交通狀況是指位置。

16. 右圖為印度半島的雨量分布圖，請據圖回答：

- (1)圖上甲 戊，何地最接近沙漠？ (A)甲 (B)乙 (C)丙 (D)丁 (E)戊。  
 (2)甲 戊五地，若以雨量由多至少排列應是：  
 (A)甲乙丙丁戊 (B)戊甲乙丙丁 (C)甲戊乙丙丁 (D)乙丙丁戊甲 (E)戊甲丙乙丁。  
 (3)造成印度大平原上雨量分布各地不同的主要原因是：  
 (A)洋流 (B)地勢高低 (C)信風的吹拂 (D)季風的風向 (E)緯度的高低。

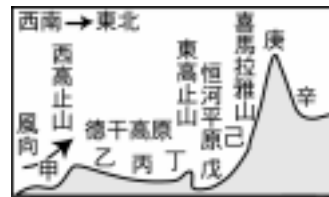


**解答** (1)D (2)B (3)D

**解析** (2)戊為迎風坡，故雨量最多。

17. 右圖為印度半島地形的剖面圖，請依圖回答下列問題：

- (1)在夏季季風吹拂下，甲 己六地中，哪二地區易有地形雨出現？  
 (2)依實際情形判斷，箭頭應為哪一季節所吹的季風？  
 (3)己所在地的經濟作物以何種著稱？  
 (4)戊 辛四地中，哪一地降雨量最豐富？



**解答** (1)甲、己(2)夏季 (3)茶 (4)己

**解析** (1)甲有來自印度洋的西南季風，己則來自孟加拉灣的季風；(2)印度夏季吹西南季風；(4)迎風山麓易降雨，庚則因為水汽已減少，故降雨量不如己。

18. 印度半島因宗教複雜，導致半島內部各區政治上的離異。下列甲 戊為各宗教的主要分布地區，請將代號填入表中。

甲：巴基斯坦、孟加拉

乙：印度東北部、斯里蘭卡

丙：旁遮普邦

丁：印度半島西南沿海

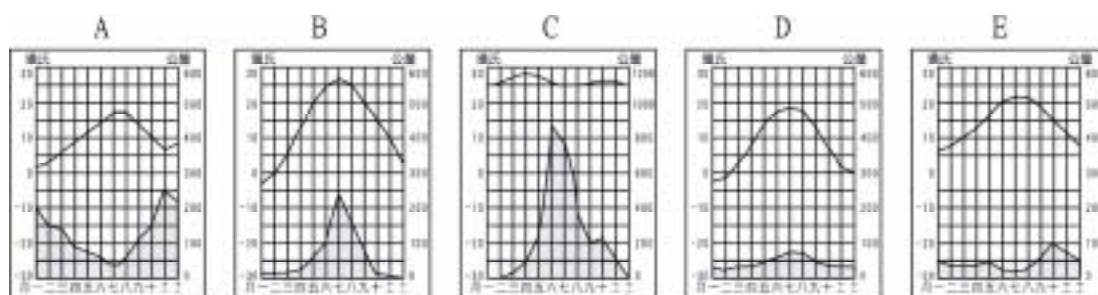
戊：古茶拉底

名稱	錫克教	基督教	佛教	伊斯蘭教	耆那教
分布區					

**解答** 錫克教 - 丙；基督教 - 丁；佛教 - 乙；伊斯蘭教 - 甲；耆那教 - 戊

19. 印度半島的氣候區大致可分為：(甲)熱帶季風氣候區；(乙)副熱帶季風氣候區；(丙)沙漠氣候區；(丁)熱帶雨林氣候區；(E)高山氣候區。試回答下列有關問題：

- (1)上述氣候區的劃分主要是根據什麼指標？  
 (2)農業上以稻米和黃麻為主要作物的地區屬於何種氣候類型？  
 (3)棉花產量占全印度  $\frac{2}{3}$  的地區為何種氣候類型？  
 (4)承上題，該地區的灌溉用水來源為何？  
 (5)印度半島農作物的空間分布，主要係受何種氣候因素之影響？  
 (6)半島上熱季風氣候區的面積占全境 60%，下列何者最足以代表該氣候的特色？



**解答** (1)氣溫和降水的特性 (2)B (3)C (4)鑿井或引印度河水灌溉 (5)雨量 (6)C

**解析** (6)熱帶季風氣候全年 高溫，夏雨集中，故選 C。

20. 印度教是南亞的最大宗教，雖然目前印度憲法已經廢除種姓制度，但此制度已深植各階層的人群心中，限制個人的發展模式，嚴重地阻礙現代化的進行。請問：

- (1)種姓制度下的階層有：(甲)首陀羅；(乙)刹帝利；(丙)婆羅門；(丁)吠舍，請寫出高階層到低階層的排列順序。  
 (2)請寫出兩種由印度教演變而來的宗教。

**解答** (1)丙乙丁甲 (2)佛教、錫克教

21. 印度半島有雄偉的地形，富饒的平原，地形上大致可分為：(甲)喜馬拉雅山地；(乙)恆河平原；(丙)德干高原；(丁)印度河平原。試回答下列有關問題：

- (1)印度半島被稱為「次大陸」與哪一地形區有密切關係？
- (2)哪一地形區主由古老地塊所構成？
- (3)哪一地形區因有熔岩覆蓋，發育出黑棉土，適合栽種棉花？
- (4)半島上的工礦業，主要分布於哪一地形區的東北部？
- (5)恆河平原的降雨空間分布有何特徵？
- (6)塔爾沙漠位於哪一條河川的中游地區？
- (7)該沙漠的主要成因為何？

**解答** (1)甲 (2)丙 (3)丙 (4)丙 (5)由東向西遞減 (6)印度河 (7)位副熱帶高壓帶的下方

**解析** (1)喜馬拉雅山的阻隔。

22. 印度的語言複雜，主要分為：(甲)南亞語系；(乙)雅利安語系；(丙)漢藏語系；(丁)德拉威語系；(戊)英語等，請回答下列問題：

- (1)哪一種語言使用的人口最多？ (A)甲 (B)乙 (C)丙 (D)丁 (E)戊。
- (2)使用漢藏語系的族群主要分布在何處？ (A)西北部 (B)東北部 (C)西南部 (D)東南部 (E)中部。
- (3)受過高等教育的印度人大多使用哪一種語系？ (A)甲 (B)乙 (C)丙 (D)丁 (E)戊。

**解答** (1)B (2)B (3)E

**解析** (2)漢藏語系與接近中國、西藏有地緣關係。