

第八章 東南亞（二）南洋群島

一、單選題

- () 1. 南洋群島之所以無法形成文化核心的原因與下列何者最有關係？ (A)地形、叢林的阻隔 (B)河川的切割 (C)眾多宗教的發源地 (D)西方國家殖民的結果 (E)山脈的阻隔。

解答 A

- () 2. 島嶼依成因可分為火山島、珊瑚礁島、大陸島，以下哪一組島嶼最初的形成與金門、馬祖島相似？ (甲)婆羅洲島；(乙)龜山島；(丙)南沙群島；(丁)綠島；(戊)蘇門答臘島。 (A)甲乙 (B)甲丁戊 (C)丙戊 (D)甲戊 (E)丁戊。

解答 D

解析 金馬及甲、戊 大陸島；乙、丁 火山島；丙 珊瑚礁島。

- () 3. 「國家—隸屬殖民國 - 宗教信仰」，選出下列正確者： (A)越南 - 法國 - 小乘佛教 (B)印尼 - 英國 - 伊斯蘭教 (C)馬來西亞 - 荷蘭 - 基督教 (D)緬甸 - 英國 - 大乘佛教 (E)菲律賓 - 西班牙 - 天主教。

解答 E

- () 4. 「東南亞有一班國際快車，這列車的頭等車廂中，有冷氣開放的臥舖，十分舒適。從甲地出發，向北行駛到泰國的曼谷需時 1 天又 14 小時。」請問文中的甲地最有可能為以下的哪一個地區？ (A)仰光 (B)馬尼拉 (C)雅加達 (D)新加坡 (E)河內。

解答 D

解析 題述為東方快車，由新加坡行駛至曼谷。

- () 5. 從 1998 年至今印尼屢傳動亂對經濟造成極大傷害，該動亂與何種人口問題最為相關？ (A)壯年人口負擔過重 (B)男女性別比例失衡 (C)移民導致種族歧視 (D)人口數超過環境負載量 (E)傳染病導致死亡率升高。

解答 C

- () 6. 「窄小民房林立於椰子樹、香蕉樹、菲律賓紅柳桉樹滿布的樹林內，用餐以匙、叉子，但仍保有抓食習慣，並喜穿『紗籠』，每一學年分成三學期，每年新開學日受齋戒月影響所致均不相同，居民面向西北西方向齋戒禮拜。」以上敘述，最可能發生於下列何地？ (A)孟加拉 (B)伊拉克 (C)葉門 (D)呂宋島 (E)蘇門答臘島。

解答 E

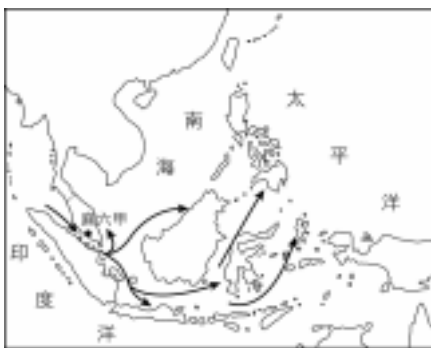
- () 7. 下列有關新加坡之敘述，何者錯誤？ (A)地扼麻六甲海峽進出口 (B)有「東方十字路口」之稱 (C)是東南亞的區域中心 (D)港口條件優良 (E)目前是以轉口貿易為主的單一經濟結構。

解答 E

- () 8. 「本市由多種族融合而成，市內印度廟、清真寺、佛寺、天主教堂並立，建築美觀宏偉。航線輻輳，貿易發達。」以上所描述的是哪一都市的景觀？ (A)仰光 (B)曼谷 (C)吉隆坡 (D)新加坡 (E)雅加達。

解答 D

- () 9. 下圖是哪一種宗教的傳播圖？ (A)佛教 (B)印度教 (C)天主教 (D)基督教 (E)回教。



解答 E

- () 10. 南洋群島是世界最大的島群，大部分島嶼的成因為： (甲)山脈沉水；(乙)沙洲島；(丙)板塊推擠；(丁)珊瑚礁島。 (A)甲乙 (B)乙丙 (C)甲丙 (D)乙丁 (E)丙丁。

解答 C

- () 11. 南洋的何種作物是引致歐西各國發現新航路的原因之一？ (A)茶 (B)蔗糖 (C)奎寧 (D)香料 (E)橡膠。

解答 D

- () 12. 南洋群島傳統的高架式建築型態，中國哪一地理區也有類似的傳統建築？ (A)黃淮平原 (B)山東丘陵 (C)雲貴高原 (D)四川盆地 (E)青藏高原。

解答 C

解析 同樣屬於高溫潮溼地區。

- ()13. 目前華人在東南亞人數已大為減少，經濟力亦銳減，唯獨哪一個國家仍以華人為主體，且擁有政治權力？ (A)印尼 (B)新加坡 (C)馬來西亞 (D)汶萊 (E)泰國。

解答 B

- ()14. 造成南洋群島降雨充沛的原因，包括 (甲)信風；(乙)西風；(丙)季風；(丁)熱力對流；(戊)地形抬升；(己)鋒面滯留。正確的有： (A)甲丙戊 (B)乙丙丁戊 (C)甲丙丁戊 (D)丙丁戊己 (E)甲丙丁戊己。

解答 C

解析 位處低緯，對流旺盛，且東北信風、東南信風常在此輻合，又受到季風影響，而高山區則易降地形雨。

- ()15. 南洋群島成為西方國家爭相殖民的對象，最主要的原因是： (甲)軍事戰略地位重要；(乙)位居東西航運的輻輳；(丙)天然資源豐富；(丁)人口多： (A)甲乙 (B)乙丙 (C)丙丁 (D)甲丁 (E)乙丁。

解答 B

- ()16. 西方殖民帝國對南洋群島帶來的衝擊，最主要表現在哪一問題上？ (A)多元文化色彩 (B)種族歧視與紛爭 (C)貧富差距擴大 (D)糧食不足 (E)土壤侵蝕嚴重。

解答 C

- ()17. 新加坡平均每人國民所得居南洋群島各國之冠，主因為： (A)轉口貿易興盛 (B)盛產石油 (C)華人較多 (D)土地不大，人口不多 (E)製造業發達。

解答 A

- ()18. 在馬來西亞，馬來人和華人分別扮演「政治」和「經濟」兩種不同的角色，此現象主要與下列哪一事實相關？ (A)殖民政府採分而治之的策略 (B)華人擅於經商 (C)馬來人採保護主義政策 (D)馬來西亞自古即採政商分離的政策 (E)馬來人為便於管理與統治，故以鞏固政權為主。

解答 A

- ()19. (甲)伊斯蘭信仰；(乙)神靈崇拜信仰；(丙)印度佛教文化，南洋地區宗教信仰發展，依時間先後排列應為： (A)甲乙丙 (B)甲丙乙 (C)乙甲丙 (D)乙丙甲 (E)丙乙甲。

解答 D

解析 印度教在漢朝以後傳入，伊斯蘭教約在十世紀左右，時間較晚。

- ()20. 近年來，印尼暴動連連，造成內政上一大隱憂。試問其暴動的主因為： (甲)宗教紛爭；(乙)爭奪資源；(丙)族群衝突；(丁)軍人干政；(戊)財富與權力分配不均，正確者為： (A)甲乙丙 (B)甲丙丁 (C)乙丙丁 (D)乙丁戊 (E)丙丁戊。

解答 E

解析 印尼大多為伊斯蘭教。

- ()21. 下列有關南洋群島自然環境之敘述，何者錯誤？ (A)地形破碎而崎嶇 (B)河川短小流急，有「荒溪型」之稱 (C)土壤肥沃，宜於農業發展 (D)終年高溫多雨 (E)多火山、地震。

解答 B

解析 「荒溪」應為熱帶季風氣候的河川典型。

- ()22. 東南亞各國中，目前哪二個國家可說是「華人的天堂」，華人在此可受到較多的尊重與保障？ (A)新加坡、越南 (B)新加坡、泰國 (C)汶萊、菲律賓 (D)泰國、菲律賓 (E)馬來西亞、緬甸。

解答 B

- ()23. 「走在街上，眼前散布著中國廟宇、宗祠、會館，公家機構則洋溢著英式風味，零散分布的印度廟、泰國廟、緬甸廟、清真寺隱隱地道出該地的種族特性。該國礦產資源豐富，境內有不少華人開發的市鎮。律法嚴謹，參觀該國重要風景點時，避免不雅之舉動，否則遇上警察可能被罰款。」以上引文描述哪一國家？ (A)印尼 (B)馬來西亞 (C)新加坡 (D)泰國 (E)緬甸。

解答 B

- ()24. 西方國家長達三百餘年的殖民，影響南洋群島深遠，但下列何項南洋群島的地理特性和其被殖民的歷程「無關」？ (A)倚賴式的經濟結構 (B)城鄉間與權貴、平民間的巨大貧富差距 (C)族群組成的更趨多元 (D)發達的熱帶栽培業和礦業 (E)伊斯蘭教信仰的普遍。

解答 E

解析 (E)是受西亞的影響。

- ()25. 下列南洋群島的各項地理特徵，何者和其「地形破碎崎嶇」，關係最密切？ (A)族群眾多且易受外來文化影響，形成多元文化 (B)為世界最大的島群，各島山嶺眾多，河川大多短小流急 (C)輻合於赤道地區的信風，和冬夏交替吹拂的季風，帶來豐沛的降水 (D)生活環境優渥，當地居民易獲溫飽 (E)位於太平洋、印度洋的交會處，為中、印往來必經之地。

解答 B

- () 26. 十六世紀開始，促使西方國家爭相進入南洋群島殖民的因素眾多，但「不」包括下列何者？ (A)南洋群島位居西方國家前往中國貿易的途中 (B)盛產香料 (C)可發展熱帶栽培業，提供咖啡、蔗糖、橡膠等熱帶作物 (D)豐富的礦產資源，譬如錫 (E)本地勞工大量而質優。

解答 E

解析 (E)勞工素質不高。

- () 27. 下列何國因共同語言與宗教信仰西化程度頗深，英語與天主教已成為主體文化一部分，生活方式也普遍西化，故被西方國家稱為「東方中的西方國家」？ (A)新加坡 (B)汶萊 (C)印尼 (D)菲律賓 (E)馬來西亞。

解答 D

解析 (D)菲律賓為天主教國家，又曾為美國殖民地，故英語普及。

- () 28. 新加坡因下列何項地理條件優良，故腹地廣及馬來半島、蘇門答臘、爪哇諸島，為這些地區所產錫和橡膠的總集散地？ (A)華人眾多 (B)位置優越 (C)四面環海 (D)港灣優越 (E)工業發達。

解答 B

解析 新加坡控制麻六甲海峽南端，位置重要。

- () 29. 下列南洋群島的現代發展和其殖民母國昔日的殖民最「不」相關？ (A)馬來西亞馬來人獨享政治大權 (B)菲律賓的大地主制度 (C)新加坡以英語為主要語言 (D)南洋群島各國獨立時疆界的劃分方式 (E)內陸及離島地區居民信仰多神教。

解答 E

- () 30. 造成新加坡腹地廣及馬來半島和印尼的蘇門答臘、爪哇諸島，為此區所產錫礦和橡膠的總集散地，這是受下列何項地理條件的影響？ (A)政治清明 (B)位置優越 (C)四面環海 (D)華僑眾多 (E)工業發達。

解答 B

- () 31. 菲律賓、印尼等國的傳統農業活動，雖然單位面積產量不少，但居民普遍貧窮，其主要原因是： (A)人力不足 (B)多颱風地震 (C)平均每人耕地面積狹小 (D)生長季與雨季不能配合 (E)土壤易流失，不易定居。

解答 C

- () 32. 南洋群島的熱帶栽培業中，以何種作物的產量高居世界第一位？ (A)茶 (B)甘蔗 (C)咖啡 (D)橡膠 (E)香蕉。

解答 D

- () 33. 婆羅洲為南洋群島中最大的島嶼，該島的主權分別屬於哪些國家？(甲)印尼；(乙)新加坡；(丙)菲律賓；(丁)汶萊；(戊)馬來西亞： (A)甲丙丁 (B)甲丁戊 (C)乙丁戊 (D)甲乙丙丁 (E)甲丙丁戊。

解答 B

- () 34. (甲)熱帶氣候；(乙)通道位置；(丙)地形阻隔；(丁)昔日西方國家的殖民；(戊)稻作集約；(己)人口眾多。東南亞目前呈現多元文化地理景觀的原因以上哪一組完全正確？ (A)甲乙丁 (B)乙丙丁 (C)乙丁戊 (D)乙丁己 (E)乙丙丁戊己。

解答 B

- () 35. 十七世紀初，占據印尼，以巴達維亞為中心的是： (A)英國人 (B)荷蘭人 (C)法國人 (D)西班牙人 (E)葡萄牙人。

解答 B

- () 36. 南洋群島至今仍無法跳脫對西方國家的倚賴，是因為哪二項條件仍然操控於西方國家所致？ (甲)原料；(乙)市場；(丙)資金；(丁)勞工；(戊)技術： (A)甲乙 (B)甲丙 (C)乙丙 (D)丙丁 (E)丙戊。

解答 E

- () 37. 新加坡是南洋地區國民所得最高的國家，其經濟來源最主要是依賴下列哪些產業？(1)熱帶栽培業(2)漁業(3)寶石業(4)工業(5)錫礦(6)畜牧(7)轉口貿易 (A)1、3 (B)3、5 (C)4、7 (D)2、6 (E)5、7。

解答 C

- () 38. 南洋群島各國的經濟，被稱為「殖民地式經濟」，原因是： (A)出口農工原料，進口工業產品 (B)迄今仍多西方國家殖民地 (C)熱帶栽培業發達 (D)屬傳統稻作農業區 (E)盛行大地主制度。

解答 A

解析 殖民國家壓榨殖民地資源，再將生產的產品傾銷回殖民地，此乃殖民地式經濟。

- () 39. 「十七世紀起，先後成為西歐各國的殖民地，歐人利用引進外僑工人，發展熱帶栽培業，成為世界經濟作物的供應地。」這段話主要是在敘述哪一個地理區的開發？ (A)中美地峽 (B)印度半島 (C)南洋群島 (D)赤道非洲 (E)亞馬孫河流域。

解答 C

- () 40. 新加坡為重要的航運中心，亦是印尼和馬來西亞的重要轉運港。主要是哪一項地理特性所致？ (A)位置 (B)地形 (C)氣候 (D)水文

(E)產業活動。

解答 A

- ()41. 全國有 83%的人民信奉天主教，是亞洲唯一的天主教國家，請問是下列哪一個國家？ (A)菲律賓 (B)新加坡 (C)日本 (D)汶萊 (E)印尼。

解答 A

- ()42. 南洋群島的地形破碎，下列有關南洋群島的敘述，何者最能說明此一情況？ (A)天然資源豐盛而多樣，當地居民容易獲得溫飽 (B)位於太平洋與印度洋的交會處，為中、印往來的必經之地 (C)輻合於赤道地區的信風，和冬夏交替吹拂的季風，帶來豐富的降水 (D)為世界最大的島群，各島山嶺眾多，河川大多短小流急 (E)族群眾多受外來文化影響，形成多元文化。

解答 D

解析 主要原因為板塊作用所造成的特徵。

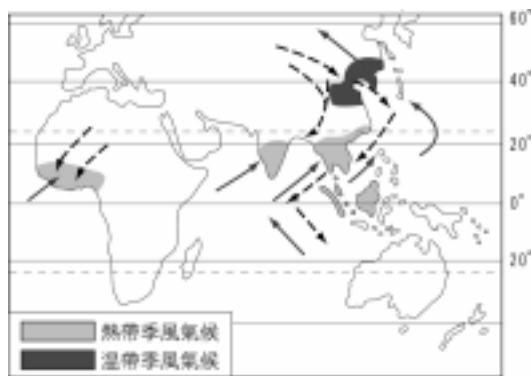
- ()43. 「馬來半島和印尼所產的橡膠、爪哇和菲律賓的蔗糖、摩鹿加的香料、萬隆的奎寧、爪哇各地的茶、咖啡、馬尼拉麻及呂宋菸草，均為本區重要農產。」此敘述可以說明南洋群島的農業具有哪些特色？(甲)集約的耕作；(乙)企業化的經營方式；(丙)產品先在產區初步加工；(丁)地區專業化；(戊)單一作物專業化。 (A)乙丙 (B)甲乙 (C)丁戊 (D)丙丁 (E)甲戊。

解答 C

解析 由題幹可看出每個地區以其特定栽培作物為主的經營型態。

- ()44. 右圖為世界季風氣候分布圖。

史上，中國與印度的商人，曾利用季風的力量，往來南洋經商。由右圖可知，當時中、印商人往來南洋的季節，正確的是： (A)中：冬去夏回 (B)中：夏去各回 (C)印：春去秋回 (D)印：冬去夏回 (E)印：秋去春回。



解答 A

解析 中：冬去夏回；印：夏去冬回。

- ()45. 馬來西亞的領土跨中南半島、南洋群島，根據以下哪一組地理現象的同質性歸併為南洋群島？ (A)地質、地形 (B)地形、氣候 (C)宗教、氣候 (D)位置、水系 (E)宗教、地質。

解答 C

解析 馬國信奉回教，且為赤道氣候，皆較接近南洋群島。

- ()46. 下列哪一個國家兼跨中南半島和南洋群島？ (A)印尼 (B)柬埔寨 (C)馬來西亞 (D)泰國 (E)菲律賓。

解答 C

- ()47. 東南亞領土地跨赤道兩側的是哪一個國家？ (A)馬來西亞 (B)新加坡 (C)印尼 (D)泰國 (E)越南。

解答 C

- ()48. 菲律賓群島東面的弧形高山與爪哇南面的弧形高山，其共同的地理特徵何者正確？ (A)多屬老褶曲山脈 (B)地殼穩定 (C)多火山、地震 (D)河川源遠流長 (E)平原面積廣大。

解答 C

解析 南洋群島為地殼不穩定之區，多新褶曲山脈，河川短小流急，平原面積狹小。

- ()49. 婆羅洲內陸的伊班族，其主要生活方式為何？ (A)游耕 (B)農耕 (C)游牧 (D)放牧 (E)熱帶栽培業。

解答 A

解析 熱帶雨林的原始產業為游耕。

- ()50. 南洋群島成為東西往來的海上十字路口，與下列何因素關係最密切？ (A)氣候 (B)地震 (C)位置 (D)地形 (E)種族。

解答 C

- ()51. 南洋群島上居民以信奉回教為主的地方有：(甲)印尼；(乙)馬來西亞；(丙)汶萊；(丁)菲律賓北部；(戊)菲律賓南部民答那峨島。以上正確的有幾個？ (A)二個 (B)三個 (C)四個 (D)五個 (E)六個。

解答 C

解析 菲國北部主要信奉天主教。

- ()52. 南洋群島接受大量外來的文化，創造新的文化風格，促成的主要因素為何？ (A)歷史(B)交通 (C)地形 (D)位置 (E)宗教。

解答 D

()53. 十五世紀時，歐洲航海家和資本家向東方航行，主要是為了尋找哪一種原料？ (A)橡膠 (B)錫礦 (C)香料 (D)石油 (E)咖啡。

解答 C

()54. 列強在南洋群島殖民，主要經營哪一種產業？ (A)石油採礦業 (B)熱帶栽培業 (C)稻作農業 (D)畜牧業 (E)林木業。

解答 B

()55. 殖民南洋群島所造成的影響和衝擊不小，下列哪一項影響正確？ (A)貧富差距縮小 (B)族群益加融合 (C)多港埠型都市 (D)華人更有政治勢力 (E)社會文化日趨封閉。

解答 C

解析 殖民地的經濟以剝削、出口為主，尤以南洋群島的熱帶栽培業為最，且多由大港口輸出，故南洋群島多港埠型都市。

()56. 美國在 2001 年 10 月 8 日對支持恐怖分子的阿富汗發動戰爭，若戰事規模擴及中東地區，則臺灣的原油供應最有可能來自哪一組國家？ (A)印尼、馬來西亞 (B)中國、印尼 (C)沙烏地阿拉伯、印尼 (D)英國、汶萊 (E)緬甸、印尼。

解答 A

解析 印尼、馬來西亞距離臺灣較近，且無戰爭的影響。

()57. 十五世紀末，哥倫布到達美洲；達伽馬發現歐洲經好望角到亞洲的新航路。此後，各國的海上活動急遽增加，海上貿易快速興起，世界各地的產業活動也出現了巨大的變化。請問達伽馬發現歐亞新航路的動機，和歐人對亞洲哪一項物產的需求有關？ (A)中國的茶葉 (B)日本的生絲 (C)印度半島的棉花 (D)南洋群島的香料 (E)阿拉伯半島的石油。

解答 D

解析 東南亞的香料對歐人飲食的影響重大，引發找尋新航線的動機。

()58. 東南亞一般畫分為中南半島和南洋群島，而馬來半島通常被歸類為南洋群島的部分，此因其在哪些方面比較類似南洋群島？(甲)人種；(乙)宗教；(丙)經濟；(丁)氣候；(戊)地體構造。 (A)甲乙丙 (B)甲乙丁 (C)乙丁戊 (D)甲乙丙丁 (E)甲乙丙丁戊。

解答 B

解析 (丙)項經濟應都為熱帶栽培業，無大差異。

()59. 東南亞地區的地理特色，何者與「殖民地式經濟」的關係最密切？ (A)人種差異大 (B)文化呈過渡性色彩 (C)多港埠型都市 (D)農林礦產資源豐富 (E)大河下游為人口稠密的精華區。

解答 C

()60. 去年夏天，小華前往歐洲遊學，途中認識一位同行者。在閒聊中，小華得知這位同行者的祖籍福建，曾祖父因家鄉饑荒而移民海外，並被迫取了西班牙姓名；他的父親在求學期間，適逢政治變遷，學習了新統治者使用的英文，同時也學會了當地住民的語言；他們因為注重傳統根本，所以幾代以來還會說華語，並保留中文姓氏。這位同行者應來自何處？ (A)菲律賓 (B)新加坡 (C)馬來西亞 (D)印尼。

解答 A

解析 菲律賓曾先後為西班牙、美國所殖民。

()61. 我國政府的「南向政策」中，印尼吸引我國廠商投資的最主要因素，是因印尼具有： (A)廣大的國內市場 (B)豐富的農礦資源 (C)豐富的旅遊資源 (D)良好的治安環境 (E)堅決的反共政策。

解答 B

()62. 「南洋群島地處赤道兩側，日照強烈，蒸發旺盛，再加向盛行風作水平輻合，使暖溼氣流升騰致雨。」此處所謂的異向盛行風包括： (A)信風、西風 (B)信風、季風 (C)季風、颱風 (D)季風、焚風 (E)西風、季風。

解答 B

解析 此為東北和東南信風輻合區，也是季風影響的範圍。

()63. 小文來到一處旅行，該地終年有雨，且多午後雷陣雨；該區有茂密的森林，樹冠高低成層分布，林下因缺少陽光照射，缺乏植被。請問，小文最有可能身在何處？ (A)泰國 (B)緬甸 (C)朝鮮半島 (D)日本 (E)婆羅洲。

解答 E

()64. 東南亞的哪一地理景觀未受中國影響？ (A)地質構造 (B)種族 (C)地形 (D)文化背景 (E)回教信仰。

解答 E

解析 (E)受阿拉伯人影響。

()65. 在機動船使用之前，中國沿海與南洋（東南亞）之間貿易的船隻必須根據所謂的「船棹風」來決定往返的時間。這種「船棹風」是指哪一種風？ (A)信風 (B)盛行西風 (C)季風 (D)海陸風。

解答 C

解析 中國東南沿海地區位於南洋之北，古時船隻往來的貿易利用北向南的冬季季風及南向北的夏季季風，往返於兩地之間。

- () 66. 2001 年亞太經合會(APEC)在上海舉行，召開非正式領袖高峰會議，討論議題之一為反恐怖活動，主辦者曾擔心有些與會國可能會因宗教信仰，而無法達成共識。請問前述所指的與會國是指：(A)澳洲、日本 (B)新加坡、越南 (C)馬來西亞、印尼 (D)泰國、緬甸。

解答 C

解析 亞太地區馬來西亞、印尼、菲律賓等國，因種族多樣，宗教複雜，經濟貧富差距大，早已有地方分離主義，伊斯蘭基本教派叛亂等情事，近來又有蓋達組織支持，形成恐怖活動威脅的地區。

- () 67. 西方殖民國家對東南亞的影響，「不」包括：(A)文化多元複雜 (B)日後政局發展不穩定 (C)自給式的經濟改為商品式 (D)多港口型都市 (E)稻作農業。

解答 E

- () 68. 右圖是王先生去年出外旅遊時所拍攝的某地風光。

請判斷該圖所呈現的景觀最可能出現在哪一地區？(A)美國東南岸 (B)西班牙庇里牛斯山區 (C)菲律賓呂宋島 (D)大洋洲社會群島。



解答 C

解析 圖所展現的照片，是在以梯田種植稻米的多山地區，菲律賓呂宋島符合上述特色。

- () 69. 南洋群島婆羅洲的原住民，傳統以「長屋」為住宅。「長屋」的哪一項特徵和當地溼熱的氣候環境最有關係？(A)形狀成長方型 (B)高腳屋形態 (C)以木材搭建 (D)屋頂覆蓋茅草。

解答 B

解析 長屋為高腳干欄式房屋的一種。熱帶多雨溼熱地區，由於多雨時常有河水暴漲發生水患之虞，故採高腳方式。增高後並可增加通風透氣的優點，以適應溼熱的環境，此外在坡地亦具適應坡地不平，節省整地的優點。

- () 70. 右圖的農業土地利用最有可能廣布在何處？

(A)印度河平原 (B)剛果河流域 (C)古巴 (D)婆羅洲 (E)越南紅河三角洲。



解答 D

解析 有橡膠 熱帶栽培業、回教堂，故知道是婆羅洲（印尼）。

- () 71. 「走在公路上，看見遠方有一棟房子（右圖）。

底下長了許多小腳，就像一隻百足蟲，朝著我走來，問主人為何搬家，主人說：跟隔壁吵架。」試問這家主人選擇搬移的村舍地點最重要的考慮因素是：(A)地質 (B)地形 (C)水源 (D)氣候 (E)產業。



解答 C

二、綜合題

1. 南洋群島地當海上十字路口，因為位於海上交通要道之上，所以常常受到外來文化影響，因此也就出現了多元文化的面貌，大致包含：(甲)泛靈信仰；(乙)印度教文化；(丙)伊斯蘭教信仰；(丁)佛教文化；(戊)華人文化；(己)基督教文化等，請根據以上選項回答下列問題：

(1) 印尼著名古文明遺址「波羅浮圖」是屬於哪一信仰文化？(A)甲 (B)乙 (C)丙 (D)丁 (E)己。

(2) 若以目前來看，南洋群島最強勢的文化為何者？(A)甲 (B)乙 (C)丙 (D)丁 (E)戊。

(3) 菲律賓目前的宗教信仰受到何者影響最大？(A)甲 (B)乙 (C)丙 (D)丁 (E)己。

(4) 何者不屬於外來侵入的文化？(A)甲 (B)乙 (C)丙 (D)丁 (E)戊。

- (5)目前掌握當地經濟大權的外來文化為何者？ (A)甲 (B)乙(C)丙 (D)丁 (E)戊。
 (6)最早侵入的外來文化為何者？ (A)己 (B)乙 (C)丙 (D)丁 (E)戊。
 (7)著名的觀光勝地「峇里島」，以何種文化特色稱著？ (A)甲 (B)乙 (C)丙 (D)丁 (E)戊。
 (8)印尼婆羅洲內陸的伊班族，目前以何種文化為主？ (A)甲 (B)乙 (C)丙 (D)丁 (E)戊。

解答 (1)B (2)C (3)E (4)A (5)E (6)B (7)B (8)A

2. 閱讀以下問題的敘述，在東南亞略圖選出最恰當的答案：

- (1)中南半島和南洋群島的地理現象最明顯的差異是： (A)氣候 (B)宗教 (C)種族 (D)港埠型都市 (E)稻作農業。
 (2)影響該地 1 月降雨的因素，以下哪一項「最無關」？ (A)氣旋經過 (B)地形抬升 (C)信風與季風的輻合 (D)較接近間熱帶輻合帶 (E)熱力對流作用。

(3)「此地為世界七大奇景之一，聯合國劃入世界重要文化遺產，歷代國王在此地建立王城，也為該國宗教建築、藝術瑰寶，內有數百座寺廟，融合印度教與佛教建築，石刻浮雕數千個，為許多盜取文物者覬覦。廟周圍以大壕溝為護城河，城內迴廊四角配有高塔，是該地人民心目中的聖塔，國旗上可見其蹤跡。」以上短文所指的建築位於右圖中的哪一代號？ (A)己 (B)乙 (C)丙 (D)丁 (E)戊。



解答 (1)B (2)A (3)D

3. 右表為南洋群島的印尼、馬來西亞、汶萊、新加坡、菲律賓五國的宗教信仰結構，試問：

- (1) 哪一國是新加坡的宗教信仰結構？
 (A)甲 (B)乙 (C)丙 (D)丁 (E)戊。
 (2)「位居火山島弧上，昔日受到殖民者的影響，至今各地區都有甘蔗園、香蕉園，人民多半使用英語，日常生活受教會強大的影響，獨立時與其殖民國交換經濟、軍事條件。」以上引文指右表當中的哪一國家？
 (A)甲 (B)乙 (C)丙 (D)丁 (E)戊。

	甲	乙	丙	丁	戊
佛教	3	0	14	32	17
回教	5	87	63	15	53
基督教	9	6	8	13	7
天主教	83	0	0	0	0
印度教	0	0	0	3	3
道教	0	0	0	22	10
民間信仰	0	7	15	15	10

解答 (1)D (2)A

4. 右圖為某地區的住屋型式，在地表上自然環境相似地區，皆有此種住屋型式。請問：

- (1)此種住屋型式在地表分布地區共同的地理特徵是：
 (A)排水不良的沼澤 (B)臨近航運發達的大河 (C)熱帶叢林的深處 (D)野生動物眾多的森林 (E)氣候溼熱、溫差小的地區。
 (2)此種住屋型式最大的目的是為了： (A)安全 (B)美觀 (C)便於耕作 (D)便於交通 (E)散熱防潮。



解答 (1)E (2)E

5. 東南亞橫跨赤道，氣候終年高溫多雨，當地除了稻作農業外，主要經濟作物為利用大量的勞力，並以企業化的經營方式，經營面積廣大的農業活動，由於面積廣大，區內並有鐵公路作為運輸系統，且產品在產區先行加工處理後，才將成品運出銷售。此外，他們也利用龐大的資本經營海外銷售業務來擴大經營規模。請根據上面短文回答下列問題：

- (1)從上面文章得知：此種農業活動最可能是： (A)商業性穀物農業 (B)混合農業 (C)放牧業 (D)熱帶栽培業 (E)園藝作物。
 (2)本區此種農業活動是全世界最興盛的地區之一，且比其他地區的此種農業活動發展更為蓬勃，主要原因為： (A)糧食與勞力充足 (B)交通便利 (C)氣候較其他地區適合 (D)地形適中 (E)資金充足。
 (3)一般而言，此種農業活動皆位在哪種區位上？ (A)交通便利的海岸附近 (B)交通便利的鐵公路附近 (C)具有優良的空運條件地區 (D)河運發達地區 (E)人口眾多的地區。
 (4)本區此種農業活動主要以種植何種作物為主？ (A)咖啡 (B)甘蔗 (C)橡膠 (D)可可 (E)香蕉。

解答 (1)D (2)A (3)A (4)C

解析 (2)同是熱帶雨林，亞馬孫河區就不發達差別在於人口。

6. 下表為金融風暴前後(97-99年)東南亞主要國家匯市幣值變化，請回答下列問題：

(1)在此期間幣值貶值幅度最大的國家為：(A)甲 (B)乙 (C)丙 (D)丁 (E)戊。

(2)此國在東南亞各國中經濟受創最深，應為何國？(A)印尼 (B)泰國 (C)馬來西亞 (D)菲律賓 (E)新加坡。

匯率(一美元兌 當地貨幣)	甲國	乙國	丙國	丁國	戊國
97/6/2	2428	25145	26.35	1.4315	24.8
99/3/8	8000	37998	37.7	1.68	36.4


解答 (1)A (2)A

7. 阿貴來到某地旅行，該地終年有雨，且多午後雷陣雨，山區森林茂密，數冠高低成層分布，藤蔓糾葛，植生非常豐富。回答下列問題：

(1)阿貴最有可能置身何處？(A)泰國 (B)緬甸 (C)韓國 (D)日本 (E)爪哇。

(2)承上題，其每日午後的降雨類型是右圖中何者？

(A)甲 (B)乙 (C)丙。



解答 (1)E (2)A

8. 有現代「香格里拉」美譽的峇里島，是印尼 13677 個大小島嶼中，最繽紛亮麗的一個，有人稱為「地球上最後的南國樂園」，也有人說是「神話藝術之島」與「音樂舞蹈之島」。為了保存原始純樸的自然景觀，印尼政府嚴禁島上設立工廠。所以在島上，盡是青翠蓊鬱的熱帶椰林，及層層疊起的梯田。峇里島獨樹特異的風土民俗與深具魅力的文化最能代表印尼傳統的特質，也是最能吸引觀光客的主要原因。請問：

(1)下列哪一個地形最可能在峇里島看不到？(A)火山錐 (B)海崖 (C)沙灘 (D)U 型谷 (E)珊瑚礁。

(2)右圖為世界農業活動特徵分類圖，該國農業活動包含哪些種類？(A)甲乙 (B)乙丙 (C)甲戊 (D)丙丁 (E)丁戊。

(3)印尼境內情勢緊繃，近年暴力事件及戰事衝突頻傳，各區獨立聲浪高漲，形成不安的印度尼西亞；下列是它動盪不安的因素：(甲)宗教不同；(乙)民族多元；(丙)氣候溼熱；(丁)地形破碎；(戊)貧富差距大。請問正確的有：(A)甲乙丙 (B)乙丁戊 (C)甲乙丁 (D)乙丙丁戊 (E)甲丙丁戊。



解答 (1)D (2)A (3)B

解析 (2)此區農業以自給性農業及熱帶栽培業為主。

9. 「這個人口名列全球第四的國家，正陷於動盪不安。宗教、族群的衝突四起，連當地人都說不清楚。四百年前，西方殖民者看準壟斷香料市場帶來的豐富利潤，將地理上分屬不同地區的各島，合併為東印度群島，為今日此國版圖勾勒出基本輪廓。」請問：

(1)上文所指的國家為：(A)菲律賓 (B)印尼 (C)馬來西亞 (D)汶萊 (E)印度。

(2)該國的殖民者為：(A)美國 (B)法國 (C)英國 (D)荷蘭 (E)葡萄牙。

解答 (1)B (2)D

10. (1)今年上市的台塑油品是目前中油最大的競爭對象。台塑若欲提昇產品的競爭力，則適合與哪一國家合作，加強投資？(A)泰國 (B)越南 (C)新加坡 (D)馬來西亞 (E)印尼。

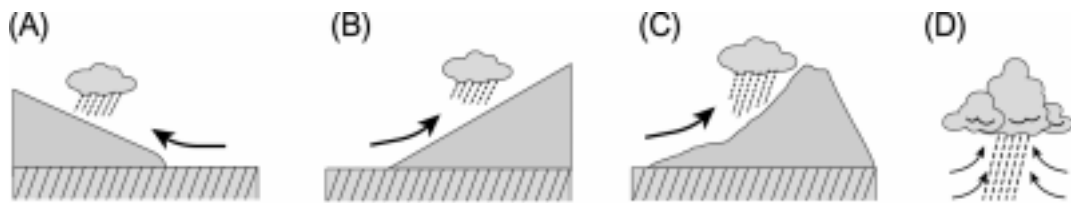
(2)承上題，若與波斯灣產油國相比較，台塑向該國購買原油，具備下列哪一優勢？(A)節省運費 (B)品質較佳 (C)售價較低廉 (D)具有聚集經濟 (E)具備規模經濟。

解答 (1)E (2)A

解析 (1)印尼石油產量豐富。

11. 「南洋群島的降雨是很特別的，來的突然，去的也突然。這種大驟雨配合著熱帶的強烈炎日，使各地植物欣欣向榮，密林遍布，一片翠綠，然而當驟雨來臨，土壤便迅速變成紅色，翠綠配上紅色，產生一種強烈對比的美，這也是南洋群島獨特的自然景觀之一。」請問：

- (1) 南洋群島最普遍的天然植物景觀是： (A) 莽原 (B) 乾草原 (C) 針葉林 (D) 熱帶雨林 (E) 混合林。
 (2) 紅土的形成和下列何項成土作用最相關？ (A) 灰化作用 (B) 鈣化作用 (C) 鹽化作用 (D) 聚鐵鋁化作用 (E) 澱積作用。
 (3) 這種獨特的降雨類型和下列何圖所示相符？



解答 (1)D (2)D (3)D

12. 東南亞包含中南半島和南洋群島。本區農、林、礦物資源豐富，熱帶栽培業發達，展現濃厚殖民地式經濟的色彩；在居民與文化方面，亦具有濃厚的過渡性。請問：

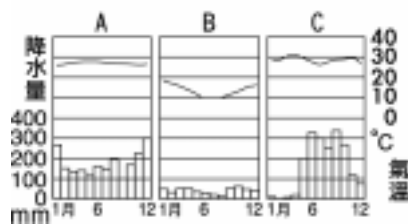
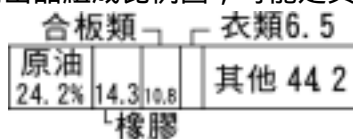
- (1) 南洋群島的礦物資源中，哪兩種的儲量和產量最豐富？ (A) 鎢、鋅 (B) 無煙煤、錫 (C) 石油、寶石 (D) 錫、石油 (E) 無煙煤、石油。
 (2) 世界哪一個地區的經濟和東南亞一樣，熱帶栽培業發達，具有濃厚殖民地式經濟的色彩？ (A) 肥沃月灣 (B) 西印度群島 (C) 澳洲東南部 (D) 玻里尼西亞 (E) 亞特拉斯山地三國。

解答 (1)D (2)B

解析 石油：印尼、汶來。錫：馬來西亞。

13. 右圖為東南亞簡圖，請問：

- (1) 圖中①、②、③三條緯線，何者代表赤道？
 (2) 甲海峽的名稱為何？
 (3) 圖中黑色部分所屬國家名稱？
 (4) A、B、C 三個氣候圖，何者最能顯示乙島的氣候特徵？
 (5) 下圖為右圖中 A-H 國某一國 1990 年代重要輸出品組成比例圖，可能是其中何國？



解答 (1) (2) 麻六甲海峽 (3) 馬來西亞、汶萊 (4) A (5) G

解析 (4) 乙島為熱帶雨林氣候，故選 A。

14. 「只要太陽曬得到的地方，就有中國人」，因此在東南亞，不論是婆羅洲、蘇門答臘的深山裡，或馬來半島的雲頂高原上，泰國清邁境內的叢林中，甚或大大小小的市鎮裡，均可發現一群又一群龍的傳人。

他們的祖先或許在明清時代就已「過番」來到南洋，克勤克儉，努力積蓄財富，原本多有衣錦還鄉之意，但因大環境的變動，歸鄉路斷，而終至在異鄉落地生根，繁衍後代，而今如何在異鄉被認同，卻成為他們的難題。請問：

- (1) 全球海外華人分布最多的地區為何？
 (2) 清末中葉後，華人何以大量移入東南亞？
 (3) 中國何地因人口壓力及易達性考量故移入東南亞者最多？
 (4) 華人在殖民地時期曾因從事何項經濟活動，故易被東南亞原住民視為殖民者的幫凶，增加被認同時的困難？
 (5) 東南亞哪一國雖以華人為主體民族，但卻從未強調華人的特殊地位，努力建立彼此扶持、相互尊重的多元種族社會？
 (6) 中南半島上何國的華人權益最受保障？

解答 (1) 東南亞 (2) 西方殖民者大力發展熱帶栽培業、開礦及公共建設，需要眾多勞力 (3) 閩、粵 (4) 西方殖民者與當地人民之間的中間商 (5) 新加坡 (6) 泰國

15. (甲) 新加坡；(乙) 印尼；(丙) 菲律賓；(丁) 馬來西亞；(戊) 汶萊，為南洋群島的五個國家，各有其歷史及多采多姿的人文背景，豐富的自然景觀。下列的敘述，分別是指哪一個國家？

- (1) 「從有著魚尾獅頭的港口上岸，開始體驗這由華人、馬來人和印度人組成的多元民族國家，交通便捷、市容整潔美麗是它給人的第一印象。」 (A) 甲 (B) 乙 (C) 丙 (D) 丁 (E) 戊。
 (2) 「這個擁有南洋最多天然資源和人力資源的國家，石油是它最大的外匯來源，雖然年平均國民所得尚低，卻也成為臺灣在南進政策中的重點國家。」 (A) 甲 (B) 乙 (C) 丙 (D) 丁 (E) 戊。
 (3) 這個位於麻六甲海峽的城市，島上椰影搖曳、海水蔚藍，有近 80% 的人口是中國裔，洋樓、中國廟、殖民地遺跡，混成一奇妙的景觀。」

(A)甲 (B)乙 (C)丙 (D)丁 (E)戊。

(4)「窄小的高架屋林立於椰子樹 香蕉樹之間；聚落的中心是天主堂，講著英文的農民帶著自己的農產品蹲在教堂前販售。」 (A)甲 (B)乙 (C)丙 (D)丁 (E)戊。

(5)「領土地跨中南半島和南洋群島，在殖民時期，殖民國採分而治之的策略，強化了國內族群間的差異，形成統合困難的多元化社會。」

(A)甲 (B)乙 (C)丙 (D)丁 (E)戊。

解答 (1)A (2)B (3)A (4)C (5)D

解析 (5)菲律賓曾為西班牙殖民地，而成為天主教國家，後又淪為美國殖民地，故講英語。

16. 右圖表示歐洲列強在東南亞的殖民範圍，甲 戊中，有四者代表四個殖民國的勢力範圍，另一個則是從未淪為殖民地的國家。請問：

(1)在殖民統治下，哪二國的殖民地均出現土地分配不均與貧富差距大的現象？ (A)甲乙 (B)乙丙 (C)乙戊 (D)丙丁 (E)丁戊。

(2)南洋群島上，哪一國的殖民地，華人缺乏參政的機會，只能致力於經濟活動？ (A)甲 (B)乙 (C)丙 (D)丁 (E)戊。

(3)哪一國的殖民地是以武力爭取獨立，軍人干政成為日後內政上的隱憂？(A)甲 (B)乙 (C)丙 (D)丁 (E)戊。

(4)哪一國從未淪為殖民地，其政治、經濟發展較為穩定，華人權益也較有保障？

(A)甲 (B)乙 (C)丙 (D)丁 (E)戊。

(5)曾經先後被兩個國家殖民，且獨立時，與其殖民國交換經濟和軍事條件的是：

(A)甲 (B)乙 (C)丙 (D)丁 (E)戊。



解答 (1)C (2)A (3)B (4)D (5)E

解析 甲——馬來西亞；乙——印尼；丙——越南；丁——泰國；戊——菲律賓。

17. 以下敘述中(1) (5)的畫線部分，有兩個是錯誤的。請在題後「錯誤部分」格內，指出錯誤的號碼；在「改正部分」格內，寫出改正後的正確敘述。

「馬來西亞北連東南亞大陸本土，南近印尼群島，可以說是貫穿南北的陸橋，(1)地點良好。氣候上，該國位處熱帶季風區內，(2)東北風和西南風輪番交替，半島沿岸成為古代順風而行的航海商人交匯點，十九世紀英國人控制馬來西亞，並大力拓展以(3)咖啡為主的(4)熱帶栽培業，和錫礦開發，並大量引進(5)華人和印度勞工，使該國成為多民族國家。

解答 (1)位置 (3)橡膠

18. 下表為南洋群島各國，1996 年平均國民所得 (美元)，哪一國家有盛產石油？

國家	平均國民所得(美元)	
A	1140	爪哇族為主
B	1209	馬來族為主
C	4466	馬來族為主
D	16400	馬來族為主
E	26266	華族為主

解答 D

解析 A 為印尼、B 為菲律賓、C 為馬來西亞、D 為汶萊、E 為新加坡，盛產石油為汶萊。

19. 1997 年 9 月，印尼發生了世界級的「森林大火」，50 萬公頃森林被燒光，大火的煙屑密布了附近國家的天空，有形無形的損外無以計數。請依此回答：

(1)造成印尼此次森林大火的根本原因是： (A)適逢乾季，無法適時撲滅森林大火 (B)對流旺盛，助長火勢 (C)東北、東南信風盛行，助長火苗竄燒 (D)受地形阻擋，焚風加速火勢 (E)森林密布，盡屬易燃植物。

(2)印尼雨水不少，而在此次火災中不能發揮效益，和下列哪一現象有關？ (A)聖嬰現象 (B)反聖嬰現象 (C)溫室效應 (D)都市熱島 (E)冷害

(3)該年印度的「森林大火」煙屑密布了馬來西亞、新加坡、波羅湖、印尼的天空，而臺灣地區空氣汙染指數並未受太大影響，造成此現象的最有利條件為： (A)兩者不屬同一氣候運作系統 (B)主要風向為東北風 (C)中國沿岸流強勁形成阻隔 (D)太平洋高壓系統制止煙屑漫延 (E)南海眾多大氣吸收大量煙屑。

解答 (1)A (2)A (3)B

解析 該年發生聖嬰現象，使原本 9 月應為雨季的印尼，卻很乾旱。

20. 右圖是東南亞略圖。試問：

- (1)甲 庚島嶼中何者有「香料群島」之稱？
何者是印尼開發最早的島嶼？
(2)1 4 各風中，哪些風是全年吹拂的？



解答 (1)丁, 己 (2)3, 4

解析 1、2 為季風；3、4 為信風。

21. 下列十國中，分別淪為下列哪些國家的殖民地，請以代號作答：(1)美國 (2)英國 (3)法國 (4)荷蘭。

A 越南	B 寮國	C 緬甸	D 泰國	E 柬埔寨
F 印尼	G 馬來西亞	H 新加坡	I 菲律賓	J 汶萊

解答 (1)美國 I (2)英國 C、G、H、J (3)法國 A、B、E (4)荷蘭 F

22. 南洋群島各國均有獨特的地理特點，請回答下列各題：(甲)印尼；(乙)新加坡；(丙)汶萊；(丁)馬來西亞；(戊)菲律賓。

- (1)上述五國當中，面積最小者為何？ (A)甲 (B)乙 (C)丙 (D)丁 (E)戊。
(2)最晚獨立的產油國為何？ (A)甲 (B)乙 (C)丙 (D)丁 (E)戊。
(3)以華人為主體的國家？ (A)甲 (B)乙 (C)丙 (D)丁 (E)戊。
(4)昔日為英國勢力範圍者為何？ (A)甲乙丙 (B)乙丙丁 (C)丙丁戊 (D)甲丙丁 (E)甲丁戊。

解答 (1)B (2)C (3)B (4)B

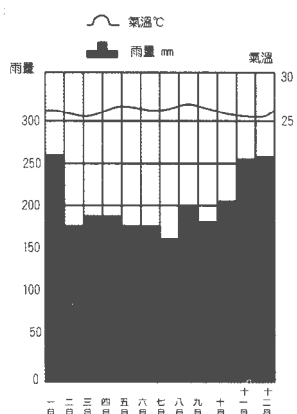
23. 某地區的氣候特徵是：「全年溼熱多雨，氣溫少有變化；溼度大，雲量多，相對溼度經常在 80% 以上；年雨量在 1300 1800 公釐之間。」
試問：

- (1)該種氣候最可能出現在下列哪一個地區？ (A)南歐 (B)印度半島 (C)智利北部 (D)非洲中部 (E)中美地峽西岸。
(2)該種氣候區的降雨，最可能出現在每日的哪一個時刻？ (A)清晨 (B)近午 (C)午後 (D)傍晚 (E)午夜。
(3)在該種氣候區經營商業性的農業活動，最需具備哪些條件？ (A)完善的水利和充足的肥料 (B)平坦的土地和肥沃的土壤 (C)進步的農業機械和便捷的交通 (D)大規模的農場和稀疏的人口 (E)眾多的勞力和巨額的投資。

解答 (1)D (2)C (3)E

24. 右圖是某地的氣候圖。請問：

十七世紀以後，右圖所代表的氣候類型區內，興起了哪一種市場指向的農業活動？



解答 東亞島弧區沿海半島區

25. 「東南亞的整個地勢北高南低，地塊初由大陸縮小為半島，再由半島變為大島，由大島而小島，成千累萬，星羅棋布，形成一片島海。」
試問：

- (1)半島上的居民及其文化，呈現過渡地區的色彩，主要係受哪兩個國家的影響？
(2)半島上農產豐富和人口稠密的精華區，主要分布於何種地形上？
(3)群島橫跨赤道，是世界經濟作物的重要供應地。經營這些作物的農業類型是什麼？
(4)群島的農業經營方式，與世界上另外哪個群島極具相似性？

解答 (1)中國、印度 (2)三角洲 (3)熱帶栽培業(4)西印度群島

26. (1)右圖為某地農業區的土地利用圖,此種農業經營方式最有可能分布在： (A)緬甸撣部高原 (B)湄公河三角洲 (C)馬來半島 (D)印度恆河平原 (E)西印度群島。



- (2)該農業類型具有哪些特徵？(甲)經營面積廣大；(乙)需要雄厚資金；(丙)採農牧兼營；(丁)以自給為目的；(戊)採機械化耕作。 (A)甲乙 (B)乙丙 (C)甲乙丙 (D)乙丙戊 (E)甲乙丙丁戊。

解答 (1)C (2)A

解析 (1)此為熱帶栽培業的土地利用圖。

27. 「這裡有許多引人入勝的事物和古蹟,包括法摩沙(一座古老的葡萄牙城堡)、葡萄牙村、荷蘭紅屋(一座荷蘭古建築物)、聖保羅教堂、吉憐村回教寺廟、聖彼得教堂、青雲亭(一座華人廟宇)和峇峇娘惹文物館。」這是小智旅遊東南亞某地時所做的旅遊手札,請問：

- (1)根據文中敘述判斷,某地應是： (A)新加坡 (B)吉隆坡 (C)麻六甲 (D)馬尼拉 (E)曼谷。
 (2)此地即為多元文化的表徵,眾多不同文化交匯在此的主要因素為何？ (A)海上十字路口 (B)盛產香料 (C)原住民人數稀少 (D)氣候宜人 (E)資源豐富。
 (3)此地曾在何種文化進入東南亞時,扮演過最重要的角色？ (A)中國 (B)印度 (C)基督教 (D)天主教 (E)伊斯蘭。

解答 (1)C (2)A (3)E

解析 (1)麻六甲為印度洋進入太平洋的重要孔道,故歐洲許多國家在此建立據點。(3)麻六甲曾為伊斯蘭教的擴散中心。

28. 「某國境內多山,稻米沿河岸和山坡梯田分布；這些梯田全是勤勞的農民,千百年來靠著雙手,一代一代辛勤築造而成。此外另有如右圖的農業,構成該國極重要的經濟命脈；境內鄉村聚落多為沿河分布的高架屋,大都市則多西式建築,全國伊斯蘭教寺廟林立,人種及語言多姿多采。」,請問：

- (1)某國可能是下列何國？ (A)越南 (B)泰國 (C)菲律賓 (D)汶萊 (E)印尼。
 (2)世界農業活動方式可分為：(甲)集約自給農業；(乙)混合農業；(丙)商業性穀物農業；(丁)熱帶栽培業；(戊)地中海型農業。某國的重要農業活動包含哪些種類？ (A)甲乙 (B)甲丁 (C)乙丁 (D)丙丁 (E)丁戊。

- (3)某國境內多山的成因為何？ (A)斷層作用頻繁,地壘性山地頗多 (B)冰河地形發達,角峰、冰積丘眾多 (C)島弧地帶,新褶曲造山運動發達 (D)風成地形發達,沙丘遍布 (E)風蝕地形發達,方山眾多。



解答 (1)E (2)B (3)C

解析 (1)多山及伊斯蘭教寺廟林立,故選印尼；(2)稻米為集約自給農業；橡膠為熱帶栽培業。

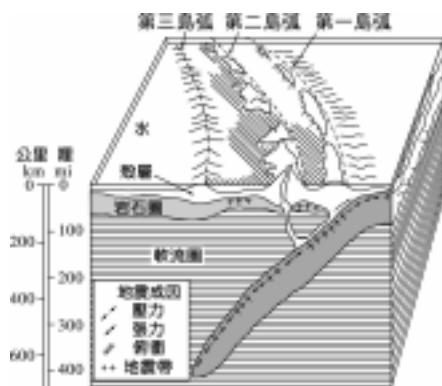
29. 南洋群島為東西文化交匯之地,近年來現代工業有所成長。請問：

- (1)除伊斯蘭教與基督教文化外,對本區文化影響最深遠的國家為何？ (A)中國、印度 (B)中國、日本 (C)印度、日本 (D)日本、韓國 (E)埃及、印度。
 (2)承上題,受到何項因素影響本區文化才深受此二國影響？ (A)地質一致 (B)語言相通 (C)同文同種 (D)中、印之間 (E)氣候相似。
 (3)近年來頗多外資進入本區,有助其現代工業的發展,外資仍著眼本區哪些有利的區位條件？ (A)交通、市場 (B)原料、勞工 (C)原料、技術 (D)動力、技術 (E)技術、勞工。
 (4)新加坡、臺灣、香港是全球新興工業地區昔日的三條小龍,這些地區相似的特點：(甲)有豐富的天然資源；(乙)勞工教育、技術水準皆不低；(丙)居民皆以華人為主體；(丁)昔日皆曾為殖民地；(戊)地小人稠；正確的是： (A)甲乙丙 (B)甲丙丁 (C)甲丁戊 (D)甲乙丙丁 (E)乙丙丁戊。

解答 (1)A (2)D (3)B (4)E

解析 (4)(丁)新加坡、香港曾為英國殖民地,臺灣為日本殖民地。

30. 右圖為某一種特殊地質構造示意圖,請問：



(1)下列何地「不」屬於此種地質構造分布區？ (A)日本 (B)菲律賓 (C)印尼 (D)汶萊 (E)臺灣。

(2)這些地區哪些地理特性的形成和此種地質構造相關？(甲)多地震；(乙)多火山；(丙)多港埠型都市；(丁)稻作農業發達；(戊)深受季風影響；正確的是： (A)甲乙 (B)甲丙 (C)乙丁 (D)丙丁 (E)丁戊。

解答 (1)D (2)A

解析 (2)此構造乃指位於板塊帶。

31. 右下圖為一個典型的橡膠園，基本資料如下：

面積：2200 公頃。

員工：包括 5 位經理，600 個割樹工人（馬來人占 40%，華人 40%，印度人 20%），150 個雜工。

組織：園內劃分為三區，每區有一個村落，園內設有學校、診所各一，印度教廟宇二所和六個膠汁蒐集站。

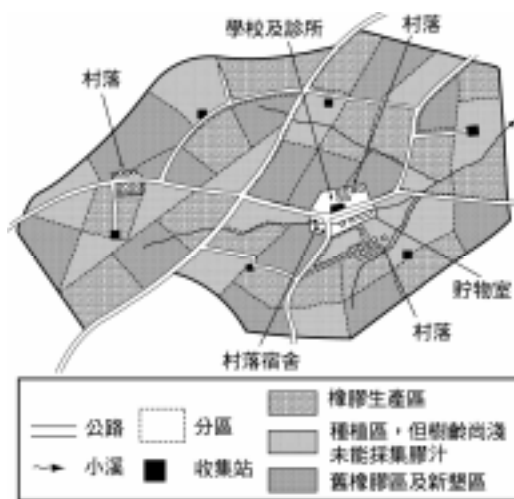
工作：每個工人每天負責割（由橡膠樹上取橡膠液）樹木 50 棵，由上午六時工作至下午一時，每棵橡膠樹須隔日割。

經營目的：產品銷售海外市場。請問：

(1)這個橡膠園可能位於下列何地？ (A)中南半島 (B)馬來半島 (C)日本群島 (D)印度半島 (E)西印度群島。

(2)此橡膠園屬於何種類型的農業所經營？ (A)集約自給農業 (B)商業性穀物農業 (C)混合農業 (D)熱帶栽培業 (E)游耕。

(3)該橡膠園的經營特色中何者「無法」由右圖及基本資料得知？ (A)面積廣大 (B)專業化 (C)產品先行初步加工 (D)勞力密集 (E)商業化。



解答 (1)B (2)D (3)C

32. 「巴蘭河是一條黃滾滾的大河，發源於婆羅洲中央山脈，彎彎曲曲地在沙勞越境內流了 400 餘公里，它的下游流域大都被闢為橡膠林和油棕園，而中、上游則仍被覆蓋在熱帶原始雨林裡，林中住有許多原住民，如伊班族、卡揚族、肯雅族等。」請問：

(1)由文中可得知哪些因素影響到巴蘭河中、上游流域，仍保有原始部落社會的型態？(甲)複雜的地質構造；(乙)複雜的地形；(丙)熱帶雨林；(丁)貧瘠的土壤；正確的是： (A)甲乙 (B)甲丙 (C)乙丙 (D)乙丁 (E)丙丁。

(2)巴蘭河中、上游流域原住民傳統的住屋為何？ (A)土樓 (B)長屋 (C)碉樓 (D)圓樓 (E)帳棚。

(3)承上題，此種傳統住屋經常以高架方式建造，此即為了適應當地何項地理要素的特性？ (A)地形 (B)土壤 (C)植被 (D)氣候 (E)交通。

解答 (1)C (2)B (3)D

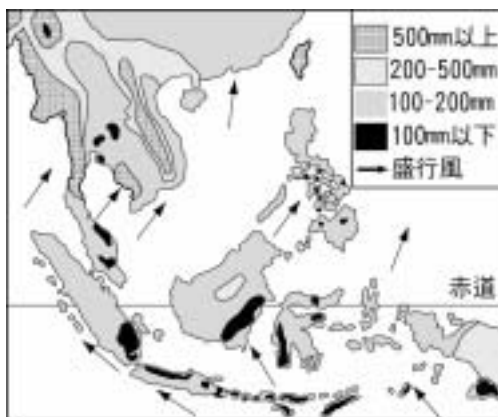
解析 (2)長屋為許多高架屋相連的集合體。

33. 右圖為東南亞某月的雨量與風向圖，請問：

(1)某月應是： (A)1 月 (B)3 月 (C)7 月 (D)10 月 (E)12 月。

(2)圖中赤道以北的盛行風應是： (A)季風 (B)信風 (C)焚風 (D)極地東風 (E)落山風。

(3)中、印兩大民族曾利用此種盛行風揚帆海上，從事兩地之間的國際貿易，並因而踏上南洋群島，這個月份兩大民族彼此如何往來：(甲)中國人由印度返回中國；(乙)中國人由中國前往印度；(丙)印度人由印度前往中國；(丁)印度人由中國返回印度；正確的是： (A)甲丙 (B)甲丁 (C)乙丙 (D)乙丁 (E)因颱風而暫停航行。



解答 (1)C (2)A (3)A

34. 東帝汶曾被葡萄牙殖民四百多年，熱帶栽培業發達，1970 年代印尼趁葡萄牙政局危機占領該地。東帝汶民族組成與宗教跟印尼不同，終於在 2002 年 5 月 20 日正式獨立，並以殖民時代之最大都市狄力（Dili）為首都。平均國民所得僅約四百美元，仍需依賴外援，但拜經濟海域石油、天然氣蘊藏豐富之賜，獨立的第一天即與澳洲簽訂共同開發合約，預期在五年後開始獲利。請問：

(1)由殖民歷史可以推論狄力 (Dili) 的地理位置條件是： (A)居國之中央，以利全國開發 (B)居海港之位，以利對外貿易 (C)居國之南方，以利與澳洲合作 (D)居山巒之中，以控印尼軍隊。

(2)東帝汶與澳洲共同開發石油、天然氣資源，是基於何種條件的經濟合作？ (A)宗教 (B)語言 (C)文化 (D)地緣。

解答 (1)B (2)D

解析 (1)此題為時事題，但題幹提供了有關東帝汶的資料，考生可根據題幹的描述來研判。題目已限定由殖民歷史來推論狄力的地理位置，因殖民時期東帝汶熱帶栽培業發達，在殖民地式經濟結構影響下，主要都市（包括最大都市）幾乎為外銷熱帶作物的港埠型都市，故選(B)。(2)此題為地圖位置及推理題，空間概念清楚的考生可直接明白東帝汶和澳洲的地緣關係，至於空間概念較弱但聰明的考生會藉圖來研判，當然有收看國際新聞習慣的考生自然不會有作答的困難了。