

## 第八章 華南—雲貴高原

### 一、單選題

- ( ) 1. 華南地區的西半部是中國少數民族最多的地方，是什麼因素使這些少數民族仍大致保有傳統的生活方式？ (A)地形 (B)氣候 (C)水文 (D)土壤 (E)政策。

**解答** A

- ( ) 2. 雲貴高原的地表，相當崎嶇不平，請問：形成雲貴高原地形的主要營力是下列何者？ (A)溶蝕 (B)風蝕 (C)風積 (D)冰河 (E)火山。

**解答** A

**解析** 石灰岩地形之營力為溶蝕。

- ( ) 3. 雲貴高原的水利設施方面，最容易造成維護困擾的問題？ (A)颱風 (B)蒸發 (C)漏水 (D)強風 (E)山崩。

**解答** C

**解析** 石灰岩地形易受溶蝕，成滲穴而漏水。

- ( ) 4. 雲貴高原的冬季，貴州常是雲霧籠罩，但是雲南卻常碧空如洗，形成這種差異的主因？ (A)山脈地形 (B)河川流向 (C)西南氣流 (D)地表植被 (E)距海遠近。

**解答** A

**解析** 貴州因地形崎嶇，鋒面阻滯，造成雲霧籠罩。而雲南北有山脈阻擋鋒面南下，天氣晴朗。

- ( ) 5. 雲貴高原上各個生活空間，各自發展出別具一格的文化特色，是受到哪一因素的影響最大？ (A)氣候 (B)植被 (C)季風 (D)作物 (E)交通。

**解答** E

**解析** 因地形崎嶇，交通不便所致。

- ( ) 6. 形成雲貴高原多元民族的色彩，未能出現能控制全區的強勢民族的主因？ (A)植被茂密 (B)氣候不良 (C)地形崎嶇 (D)經濟力弱 (E)降水期太長。

**解答** C

- ( ) 7. 西南少數民族的住屋沿用干欄式建築至今，反應出當地的哪一特徵？ (A)溫差太大 (B)潮溼多雨 (C)排水不良 (D)游耕農作 (E)山牧季移。

**解答** B

**解析** 干欄式建築為適應自然地形和地物，不必開山闢地，破壞原始地貌，且具有乾燥通風避溼特點。

- ( ) 8. 雲南省可以用元江將之區分為滇西與滇東兩個次地理區，滇西與滇東的地理現象差異很大，主要的影響因素是什麼？ (A)地形 (B)土壤 (C)交通 (D)水文 (E)農業。

**解答** A

**解析** 滇東為高原地形，滇西為縱谷地形。

- ( ) 9. 下列地形，何者最容易在雲貴地區找到？ (A)甲 (B)乙 (C)丙 (D)丁 (E)戊。



**解答** B

- ( ) 10. 臺灣與雲南西部，山脈縱走，相對高度大，主要的原因是什麼？ (A)河流平行切割 (B)差別風化作用 (C)新褶曲造山運動的結果 (D)石灰岩溶蝕作用 (E)昔日冰河侵蝕作用。

**解答** C

- ( ) 11. 貴州與雲南省的氣候不盡相同，滇東的地勢比貴州高，為何冬天卻比貴州溫暖？ (A)印度洋有暖流，西南季風吹拂 (B)緯度較低，冬季盛行西南風 (C)冬夏季為乾季，碧空如洗 (D)北有秦巴山地屏障寒風 (E)四周高山環繞，形成逆溫。

**解答** B

**解析** 雲南東部，因緯度較低，且北有高山阻擋寒流南下，又有從南方的暖氣團阻滯所致。

- ( ) 12. 雲貴高原上「壩子」形成的主要原因為何？ (A)山崩阻塞河道而形成 (B)古代內海的遺跡 (C)斷層陷落和溶蝕 (D)熔岩流阻塞河道 (E)冰河槽積水形成。

**解答** C

( )13. 雲貴高原之滇西地區，為一山一谷排列的縱谷地形，相對高度大，下列敘述，何者與此地形特徵最不相關？ (A)傣族以溜索為主要交通工具 (B)水力蘊藏豐富 (C)天然植物呈垂直分布 (D)十里不同天 (E)天然林廣布山地西坡雨量較東坡為多。

**解答** E

**解析** 西坡雨量轉東坡為多，係來自印度洋的西南季風較強大所致。

( )14. (甲)溶蝕作用；(乙)冰蝕作用；(丙)河蝕作用；(丁)風蝕作用；(戊)海蝕作用。貴州省有「地無三里平」之稱，主要可能遭受到何種侵蝕營力？ (A)甲乙 (B)乙丙 (C)丙丁 (D)丁戊 (E)甲丙。

**解答** E

**解析** 溶蝕和河蝕使得雲貴高原崎嶇不平。

( )15. 中國大陸西南地區偏僻山居之少數民族，其生活條件迄今仍十分落後，這種遺世獨立的環境下，產生了不少問題，(甲)由於環境限制通婚範圍小，近親婚配現象普遍，導致子女先天性殘疾、畸形、低能現象多；(乙)教育不普及，文盲比率極高；(丙)人口增加快，火耕面積愈大，造成生態環境惡化；(丁)生活孤立，族群之間因長期隔閡而對立，易生衝突；(戊)人口老化，勞動力不足。正確的問題是： (A)甲乙丙 (B)甲乙丁 (C)乙丙丁 (D)乙丙戊 (E)丙丁戊。

**解答** A

**解析** (丁)因生活孤立，彼此少來往而封閉；(戊)人口外移而使勞動力不足。

( )16. 「天無三日晴」之諺言是形容貴州氣候終年多雨，請問當地的降雨是屬於什麼類型？ (A)對流雨 (B)地形雨 (C)颱風雨 (D)季風雨 (E)鋒面雨。

**解答** E

( )17. 雲貴高原上居民集居與活動的地區是「壩子」，雖然「壩子」地形較平坦、土壤層較深厚，但其發展農業仍面臨一個最大的威脅。請根據雲貴高原的地理環境推論出其面臨的最大威脅是何者？ (A)土性偏酸性 (B)平均氣溫較低 (C)興修水利有漏水之虞 (D)晴日少，作物無法進行光合作用。

**解答** C

( )18. 「海拔約 1000~2000m，西高東南低，分屬長江、珠江及元江流域，地形切割嚴重……。」是指哪一地形區？ (A)雲貴高原 (B)皖浙丘陵 (C)黃土高原 (D)山東丘陵 (E)四川盆地。

**解答** A

( )19. 下列那個都市因地勢高，夏日涼爽，冬不寒冷，有春城之稱？ (A)貴州 (B)桂林 (C)重慶 (D)昆明 (E)大理。

**解答** D

( )20. 雲貴高原氣候可分為三區，其中貴州地區夏熱冬冷的主因為： (A)夏熱的原因為緯度低 (B)冬冷的原因為地勢高 (C)秋天多雨 (D)冬冷的原因為緯度稍高 (E)夏熱原因為受盛行東南季風影響。

**解答** D

( )21. 雲貴高原地區原住民眾多，其中有一族曾有這樣的說法：麻雀生多了，窩窩擠不下。子孫生多了，寨子住不下……。因而另行建築干欄式房屋，發展出新聚落。請問是哪一族的說法？ (A)白族 (B)回族 (C)苗族 (D)怒族 (E)壯族。

**解答** C

( )22. 每年秋收前的火把節，村民為祈求五穀豐收，以植物枝幹紮成小火把，並匯集於村寨中央點燃，彼此互相撲打火把，以示驅除病魔災難。上面這段描述主要是指中國哪一民族的生活特色？ (A)排灣族 (B)白族 (C)赫哲人 (D)苗族 (E)藏族。

**解答** B

( )23. 以下地理事項深受「政府政策」影響的有：(甲)廈門，汕頭，深圳，珠海的經濟特區；(乙)雲貴高原的生產責任制取代集體生產制；(丙)臺灣新竹科學園區的設立；(丁)東南丘陵區人口外移；(戊)貴州苗族依山建造干欄式建築正確的有： (A)甲乙丙 (B)乙丙丁 (C)丙丁戊 (D)甲乙丁 (E)乙丁戊。

**解答** A

**解析** (丁)為受環境負載力影響；(戊)為受地形影響。

( )24. 雲貴高原地理區由於距海較遠加上地形崎嶇，因此如果希望能找到一個出海捷徑，下列哪個都市最可能中選？ (A)河內 (B)廣州 (C)香港 (D)澳門 (E)曼谷。

**解答** A

**解析** 雲貴高原就位置而言，距離最近的為越南的河內（外港海防）。

( )25. 白族、苗族、傣族生活方式的共同特徵是： (A)只從事第一級產業活動 (B)生活習俗與稻作密切相關 (C)精耕細作，廣闢梯田 (D)自給自足，沒有貿易活動 (E)適應自然環境與自然環境和諧相處。

**解答** E

( )26. 右圖中，此種建築型式在中國雲貴高原的少數民族村寨中可以見到，如傣族、苗族等。

試問此種建築可以適應當地何種地理條件？

(甲)地形；(乙)氣候；(丙)水文；(丁)土壤；(戊)植被。(A)甲乙 (B)乙丙 (C)乙丁 (D)甲丙 (E)乙戊。



**解答** A

**解析** 適應坡地地形及溼熱的氣候。

( )27. 右圖中的降雨類型，可用來說明下列哪一地理現象？(A)東南丘陵7~9月的颱風雨 (B)海南島東北部的降雨 (C)東南丘陵內陸雨量多於沿海 (D)雲南橫斷山脈區的西坡雨量多於東坡 (E)貴州的冷溼陰雨。



**解答** E

( )28. 因居住環境及生產技術的差異，造成經濟發展程度不一，為適應不同的自然環境，各族的生活方式截然不同，設有：(甲)游耕；(乙)傳統農業；(丙)農、工業 三種方式。若按地勢高低挑列，依序為：(A)甲乙丙 (B)甲丙乙 (C)乙甲丙 (D)乙丙甲 (E)丙乙甲。

**解答** A

( )29. 某導演開拍一部以貴州苗族村寨為背景的电影，畫面中有：(甲)梯田；(乙)稻田；(丙)環形土樓；(丁)干欄式建築；(戊)吃新節。其中「不符」地理事實的是：(A)甲 (B)乙 (C)丙 (D)丁 (E)戊。

**解答** C

**解析** 土樓為閩西客家人的住家。

( )30. 「雲貴高原地表起伏大，河川流急，水力資源豐，高原邊緣通鄰區略有舟楫之利。」下列何者與上述地形特徵關係最密切？(A)茶葉是主要經濟作物 (B)居民多從事林業和礦業 (C)內部聯繫往來困難，文化多元 (D)地下金屬礦藏豐富 (E)人口過剩，糧食普遍不足。

**解答** C

( )31. 「一山有四季，十里不同天」是描述雲南西部的哪一特徵？(A)地形雨界線 (B)氣候垂直分布 (C)迎風坡背風坡 (D)主要盛行風向 (E)地表植被。

**解答** B

( )32. 中國華南地區的都市機能頗為多樣，就都市與交通的關係言，華南缺少下列哪一種都市的類型？(A)海運與海港 (B)河運與河港 (C)陸運要衝與陸運都市 (D)隊商與沙漠入口都市 (E)邊陲交通與邊境都市等。

**解答** D

( )33. 雲貴高原區的貴州高原上，河流多屬長江支流、珠江和元江的源流，此種水文分布型，在水文系統上稱為何種水系？(A)格子狀 (B)樹枝狀 (C)羽毛狀 (D)放射狀 (E)向心形。

**解答** D

( )34. 「一山有四季，十里不同天」可以用來形容哪一個地理區的氣候？(A)長江三角洲 (B)珠江三角洲 (C)貴州高原 (D)海南島 (E)滇西縱谷。

**解答** E

**解析** 因地勢高低懸殊，而使氣候呈垂直分布。

( )35. 在雲貴高原上，有各種大、小不等的盆地及湖泊，其成因也頗不相同，滇池和洱海是兩個較大的，其成因為何？(A)內湖切割 (B)河川沖積 (C)石灰岩溶蝕 (D)冰河挖蝕 (E)斷層陷落。

**解答** E

( )36. 中國大陸預計未來一、二十年內，在其西南邊境各河川建設一系列的水壩，完成後可能影響鄰國的水源。下列河川中，哪一條河流的水源不會受到這些計畫的影響？(A)湄公河 (B)昭披耶河 (C)薩爾溫江 (D)伊洛瓦底江 (E)布拉馬普特拉河。

**解答** B

**解析** 昭披耶河來源不在中國境內。

( )37. 右圖為東南亞地區常見的高架干欄式房屋，此種房屋在雲貴高原也相當普通。

請問：若以生活環境的觀點來考量，此種房屋的分布反映下列哪一項地理特性？ (A)氣候溼熱 (B)氣候炎熱乾燥 (C)水源取得容易 (D)土質鬆軟。



**解答** A

**解析** 高架干欄式房屋，利用不同高度的脚架，無須整地即可建築，省時省力，成為坡地居民適應地形的最佳選擇；溼熱容易氾濫的地區，高架干欄式房屋亦有適應水患以及通風的優點。

- ( ) 38. 中國東南丘陵和四川盆地，地多丘陵，當地居民將坡地闢為梯田以種植水稻，貴州高原除壩子外，當地的許多坡地則以種玉米為主，少有關建梯田以種水稻的情形。請問：形成此種現象的原因與下列何者關係最密切？ (A)交通不便，餘糧不易輸出 (B)雨水不足，無法引河水灌溉 (C)坡度太大，不易開闢梯田 (D)地層容易滲水，灌溉困難。

**解答** D

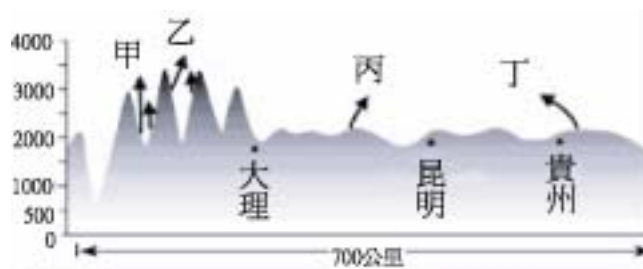
**解析** 貴州多石灰岩地形，石灰岩的溶蝕作用形成地下岩洞及伏流，容易產生滲水現象，不易蓄積灌溉水。石灰岩地形土壤貧瘠，土層薄，不利水稻種植。

- ( ) 39. (甲)西雙版納的傣族，改種蘭花對外輸出；(乙)珠江三角洲的基塘農業日漸衰微；(丙)廈門、汕頭等經濟特區的設立；(丁)雲貴高原的少數民族外移到都市；(戊)長江三角洲的大圩分割成小圩。以上所述，何者與交通易達性的提高有關？ (A)甲乙 (B)乙丙 (C)丙丁 (D)丁戊 (E)甲丁。

**解答** E

- ( ) 40. 右圖為中國雲貴地區的地形剖面圖。

雲貴地區由於南接中南半島的地理位置，成為民族移動的「通過位置」。今日泰國、緬甸、寮國居民皆來自雲貴地區。請問：根據剖面圖所示的各地區的地理特徵，泰、緬人最可能自圖中何區南遷而成？ (A)甲 (B)乙 (C)丙 (D)丁。



**解答** A

**解析** 滇西縱谷區因地形崎嶇，交通不便，族系複雜。「河谷」地區的住民沿河谷南下移入中南半島。

- ( ) 41. 李生趁到中國大陸南部地方探親之便，擬考察聞名的石灰岩地形，下列哪些地方可以看到大規模的石灰岩地形？(甲)雲貴高原；(乙)東南丘陵；(丙)嶺南丘陵；(丁)滇西縱谷；(戊)海南島。 (A)甲乙 (B)甲丙 (C)乙丁 (D)丙戊 (E)丁戊。

**解答** B

- ( ) 42. 雲貴高原的區域特色有：(甲)可耕地面積狹小；(乙)局部地區地形崎嶇；(丙)礦物資源種類繁多；(丁)都市多居陸運要衝；(戊)河川無航運之利。以上哪些特色和該高原發達的石灰岩地形有關？ (A)甲乙丙丁 (B)甲乙丙戊 (C)甲乙丁戊 (D)甲丙丁戊 (E)乙丙丁戊。

**解答** C

**解析** 礦產資源種類等多與石灰岩地層無關。

- ( ) 43. 「東江崖欲接，漱石水成漩」的河川景觀，最常出現在下列哪一個地理區？ (A)巢蕪盆地 (B)河西走廊 (C)滇西縱谷 (D)熱河高原 (E)大小興安嶺。

**解答** C

- ( ) 44. 「在邊境的市集上，可以聽到許多不同民族的語言，可以買到鄰近各地的特產，也可以看到苗族、擺夷等少數民族的婦女們穿戴著傳統服飾來逛街。」前述的景象最有可能出現在下列哪一地區？ (A)雲南邊境 (B)東北邊境 (C)西藏邊境 (D)新疆邊境 (E)蒙古邊境。

**解答** A

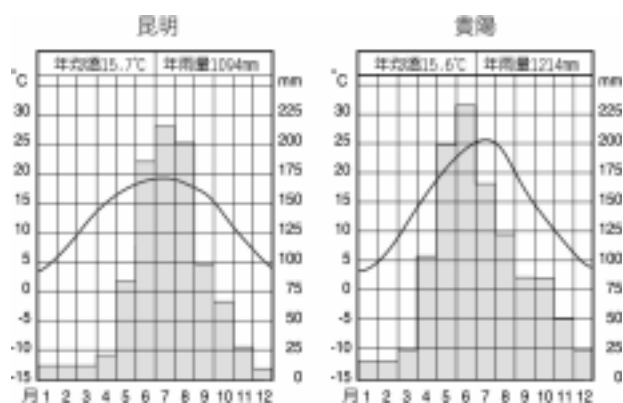
- ( ) 45. 貴州省有「天無三日晴」之稱，主要的原因為何？ (A)緯度低 (B)兼受太平、印度兩洋季風的影響 (C)地勢高，對流雨多 (D)地勢崎嶇，阻滯鋒面 (E)西北有青康藏高原，易降地形雨。

**解答** D

## 二、綜合題

1. 下圖為雲貴高原上貴陽與昆明的氣候圖，請依圖回答：

- (1)由圖中可知，貴陽的陰雨日數較昆明為多，主要的原因為何？ (A)緯度較高 (B)地勢較高 (C)位置偏東 (D)鋒面滯留 (E)山脈阻擋水汽。  
 (2)由圖中可知，昆明的夏季月均溫較貴陽低，主要的原因是什麼？ (A)緯度較高 (B)地勢較高 (C)位置偏西 (D)植被豐富 (E)雲霧多。  
 (3)「一山有四季，十里不同天」可以用來形容哪一個地理區的氣候？ (A)長江三角洲 (B)滇東高原 (C)貴州高原 (D)海南島 (E)滇西縱谷。



**解答** (1)D (2)B (3)E

2. 右圖為中國某地的建築結構示意圖，請依圖回答下列各題：

- (1)此種房屋型式可在中國的哪個地理區發現？ (A)黃土高原 (B)蒙古高原 (C)雲貴高原 (D)青康藏高原 (E)隴西高原。  
 (2)在東南亞，剛果盆地也可見到這種類似的住屋型式，它們的共同特色是用「木柱把屋宇架高」，主要是受到什麼因素的影響？ (A)氣候 (B)地形 (C)水文 (D)交通 (E)土壤。



**解答** (1)C (2)A

**解析** (1)圖為干欄式建築分布於雲貴高原；(2)此區住屋大都坐落於近山靠水的向陽坡上。

3. 雲貴高原是副熱帶季風高原型的氣候，但境內氣候都不太相同。請回答下列各題：

- (1)「天無三日晴」、「四季如春」、「十里不同天」這三個關於氣候的形容詞，可以分別用來形容： (A)貴州→滇東→滇西 (B)滇東→滇西→貴州 (C)滇西→貴州→滇東 (D)貴州→滇西→滇東 (E)滇東→貴州→滇西。  
 (2)造成滇西，滇東，貴州三地氣候差異的最主要影響因素為何？ (A)地形 (B)緯度 (C)水文 (D)季風 (E)植被。  
 (3)貴州與雲南省的氣候不盡相同，滇東的地勢比貴州高，為何冬天卻比貴州溫暖？ (A)印度洋有暖流，西南季風吹拂 (B)緯度較低，冬季盛行西南風 (C)冬夏季為乾季，碧空如洗 (D)北有秦巴山地屏障寒風 (E)四周高山環繞，形成逆溫。

**解答** (1)A (2)A (3)B

**解析** (1)天無三日晴乃鋒面受地形阻滯所致為貴州氣候，四季如春指滇東夏涼冬暖，十里不同天為滇西因地勢高低懸殊所致；(2)受地形，緯度差異不同影響；(3)冬季時因北有高山，寒流不易南下，且有從南方來的暖氣團阻滯，故冬溫不低。

4. 下圖為中國華南地區略圖 請依圖回答下列各題：

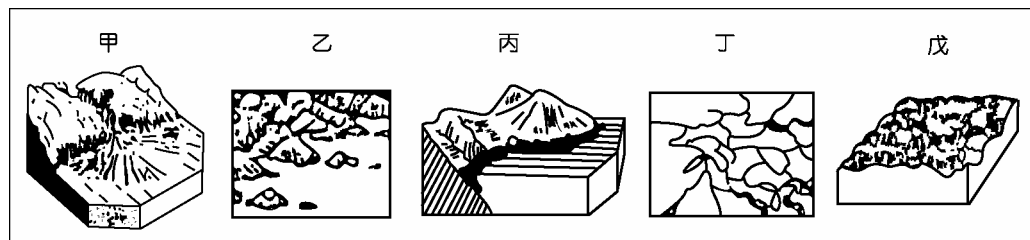
- (1)中國最適宜發展熱帶栽培業的地理區是： (A)甲 (B)乙 (C)丙 (D)丁 (E)戊。  
 (2)哪二個地理區因境內地形，語言產生分化而不易統一？ (A)甲乙 (B)乙丙 (C)丙丁 (D)丁戊 (E)乙戊。



**解答** (1)D (2)E

**解析** (1)中國最適宜發展熱帶栽培業的地區為海南島；(2)東南丘陵和雲貴高原因地形崎嶇，交通不便，語言分化而不易統一。

5. 下圖為五種地形示意圖請回答下列各題：



- (1)東南丘陵的九龍江口及韓江出口的海岸地形分別為： (A)甲乙 (B)乙丙 (C)乙丁 (D)丁戊 (E)丙丁。  
 (2)「壩子」為雲貴高原精華區，最有可能出現於上圖中何者？ (A)甲 (B)乙 (C)丙 (D)丁 (E)戊。

**解答** (1)C (2)E

**解析** (1)九龍江口為谷灣，韓江出口為三角洲；(2)壩子為蝕餘窪地，即窪盆。

6. 「雲貴高原原本是一片汪洋大海，後隨造山運動隆起，形成石灰岩遍布的高原，加上斷層、褶曲等作用，整個高原地勢崎嶇。」請根據以上所述，回答下列各題：

(1)雲貴地區「地勢崎嶇」，對整個地區造成的影響「不」包括：(A)內部聯繫往來困難 (B)文化呈現多元風貌 (C)未有任何強勢民族能控制全區 (D)語言和習俗產生分化 (E)人口稀少，族系少。

(2)為適應地理環境，怒江谷地的，苗嶺的苗族，洱海之濱的白族分別以什麼生活方式為生？(A)游耕→梯田→農工生產 (B)採集→狩獵→捕魚 (C)採礦→稻作→工業 (D)漁業→游耕→梯田 (E)梯田→採礦→狩獵。

(3)現代化交通網路的興築，對雲貴高原的影響「不」包括：(A)交往增加、文化逐漸交互融合 (B)人口外移到都市 (C)傳統文化與價值流失 (D)觀光業發達 (E)交通沿線以外，保存傳統的生活方式。

**解答** (1)E (2)A (3)E

7. 「住在洱海之濱的白族，自古以來，懂得利用水鳥「鸕鶿」幫他們捕魚，洱海的白族世代相傳，洱海是大佛的耳朵烙印上去形成的」請回答下列各題：

(1)洱海的成因和下列哪一個湖泊類似？(A)陶波湖 (B)北美五大湖 (C)長白山天地 (D)貝加爾湖 (E)太湖。

(2)下列哪一個都市濱臨洱海？(A)貴陽 (B)昆明 (C)大理 (D)蒼梧 (E)衡陽。

**解答** (1)D (2)C

**解析** (1)(A)為火口湖、(B)冰蝕湖、(C)為火口湖、(D)為地塹湖、(E)盆狀窪地而洱海為地塹湖；(2)大理濱洱海。

8. 華南地區包括：(甲)臺灣島嶼區；(乙)東南丘陵；(丙)嶺南丘陵；(丁)雲貴高原等地理區，請問下列各題：(請以代號甲乙丙丁回答)

(1)中共為引進外資，賺取外匯，在哪些地理區設有經濟特區？

(2)灕水兩岸的殘丘群素有「甲天下」之稱，它位在哪一個地理區？

(3)「仰望山接天，俯看江如線，隔山喊得應，走路要一天，一山有四季，十里不同天。」以上敘述，最有可能是哪一個地理區的景觀？

(4)甲、乙、丙、丁四區的水系類型特徵分別對應下列何者？



(5)哪一個地理區的氣候兼受太平洋和印度洋季風的影響最顯著？

**解答** (1)乙丙 (2)丙 (3)丁 (4)甲 D；乙 C；丙 B；丁 A (5)丁

**解析** (1)在(乙)有廈門，在(丙)有深圳、珠海；(2)在(丙)區，為石灰岩地形；(3)為雲貴高原的滇西橫斷山脈區；(4)臺灣島嶼區水系為對稱東西外流，東南丘陵為格子狀水系，嶺南丘陵為樹枝狀水系，雲貴高原為放射狀水系；(5)雲貴高原因位置兼受太平洋和印度洋季風。

9. 下圖是雲貴高原少數民族的區位分布圖，請依圖回答下列問題：

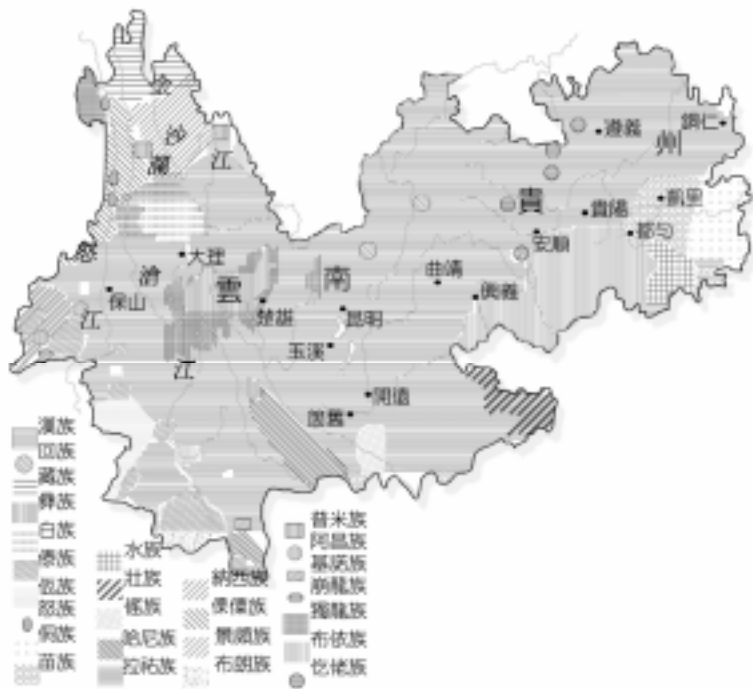
(1)請參考下圖，完成下表：

(1)

族系	傣族	白族	1.
地形	橫斷山脈	2.	苗嶺山區
生活方式	3.	農、工皆盛	4.

(2)下表為傣族的自然曆，由該表可知傣族主要從事何種經濟活動？

四季	春	夏	秋	冬
自然曆法月份	花開月，鳥叫月，燒火山月	飢餓月，採集月	收穫月，煮酒月	狩獵月，蓋房月，過年月



**解答** (1)1.苗族 2.壩子 3.游耕 4.梯田 (2)採集，狩獵，游耕

**解析** (1)傣僳人和苗人都有干欄式建築；(2)由此四季的經濟活動可看出有採集、狩獵、游耕。

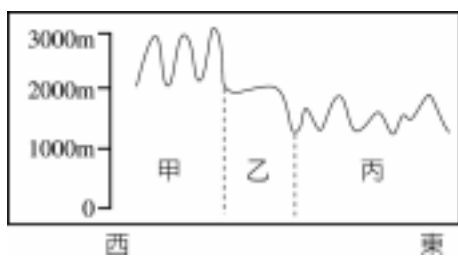
10. (1)「山高一丈，水冷三分」是哪一氣候特性最佳的寫照？ (A)降水形式 (B)逆溫 (C)氣溫水平分布 (D)氣溫垂直遞減 (E)降水特性。  
 (2)中國哪一地區此一現象最明顯？ (A)山東丘陵 (B)皖浙丘陵 (C)四川盆地 (D)滇西縱谷 (E)雲貴高原。  
 (3)承上題，該地區形成這種現象的主因是什麼？ (A)地勢高峻 (B)地形崎嶇 (C)相對高度大 (D)鋒面滯留 (E)季風強勁。

**解答** (1)D (2)D (3)C

11. 雲貴高原大致介於北回歸線至 30°C N 之間，東西兩側距太平洋和印度洋不遠，夏季時，兩洋的溼潤氣流都帶來豐富的水汽。請問：  
 (1)此地夏季季風主要風向為何？  
 (2)雲南地區夏涼冬暖的原因為何？

**解答** (1)西南風(2)夏季：海拔較高，冬季：北有高山阻擋

12. 下圖為雲貴高原地形剖面圖，本區地形大致分為三個部分，即圖中甲、乙、丙，試回答：  
 (1)橫斷山脈位於何區？ (A)甲 (B)乙 (C)丙 (D)甲丙 (E)乙丙。  
 (2)「四季如春」、「天無三日晴」、「一山有四季，十里不同天」，這三個關於氣候的形容詞所指的依序是何區？ (A)甲乙丙 (B)乙丙甲 (C)丙甲乙 (D)乙甲丙 (E)丙乙甲。

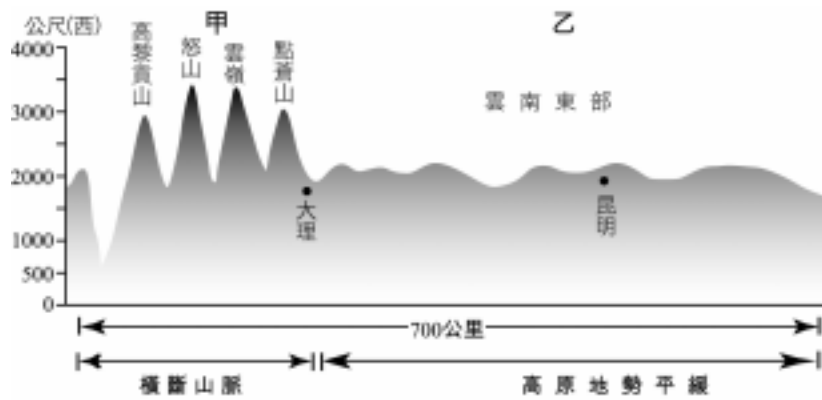


**解答** (1)A (2)B

13. (甲)南枝向暖北枝寒，一樣春風有兩般；(乙)山水甲天下；(丙)上下三十六灘，灘灘都是鬼門關；(丁)八山一水一分田；(戊)一山有四季，十里不同天；(己)蠶壯魚肥桑茂盛，塘肥桑旺繭結實；(庚)苗子不跳花，穀子不揚花。試問：描述下列兩個地理區的俗諺分別為上述何者？  
 (1)雲貴高原：\_\_\_\_\_  
 (2)嶺南丘陵：\_\_\_\_\_

**解答** (1)戊庚 (2)甲乙己

14. 下列代表某一地區的地形狀態，請據以回答下列問題：  
 (1)該圖係哪一種地圖類型？ (A)立體透視圖 (B)等高線圖 (C)剖面圖 (D)地圖模型 (E)斷塊圖。  
 (2)甲區的相對高度有多少？ (A)<500m (B)500~1000m (C)1000~2000m (D)2000~3500m (E)>3500m。  
 (3)甲區的氣候特徵可以下列哪一句話加以形容？ (A)四季如春 (B)天無三日晴 (C)一山有四季，十里不同天 (D)秋雨冬霧 (E)四季如夏。  
 (4)甲區的居民為適應當地的地形發展出的特殊交通工具—溜索，係哪一族系所創？(A)苗族 (B)傣僳族 (C)白族 (D)壯族 (E)回族。  
 (5)乙區群峰間密布大小不等的蝕餘窪地，是當地的精華區所在，稱為： (A)海子 (B)石林 (C)峰林 (D)壩子 (E)窪盆。  
 (6)若暑假到乙區旅遊，當地的氣候狀況可能是： (A)酷熱難當 (B)陰雨連綿 (C)冷風蕭颯 (D)颱風侵襲 (E)溫和舒適。



解答 (1)C (2)C (3)C (4)B (5)D (6)E

15. 「小燕到中國西南某都市旅遊，剛好遇到當地著名的『三月街節』，各地的少數民族及外商雲集在此，進行牲畜、藥材等各地土產的貿易，並有熱鬧的歌舞、賽馬、競技，彷彿是滇西各族物資交流和文藝體育大會。」請問：

(1)小燕所旅遊的都市最可能是： (A)貴陽 (B)保山 (C)大理 (D)昆明 (E)黃果樹。

(2)小燕旅遊該地的時節，當地的氣候狀況通常如何？ (A)大地雪封 (B)陰雨連綿 (C)溫和舒適 (D)酷熱難當 (E)大雨傾盆。

解答 (1)C (2)C

16. 康熙六十年，杜昌丁在其旅行日記中記錄：「八月初七日，大雪山，晴，至半山，忽大霧雨雪。冒雪雨上，僕從無不下淚。余步行過頂，宿，寒甚如隆冬。……八月初十日，至江邊浮橋已斷，從溜筒過，以百丈之寬，而命懸一索，一失足，則奔流澎湃，無所底止。」請問：

(1)杜昌丁此時的旅行地點，應較接近下列哪一河谷地區？ (A)漢水 (B)怒江 (C)珠江 (D)閩江 (E)嘉陵江。

(2)八月時臺灣正值盛夏，該地卻寒如隆冬，主要影響因素為？ (A)緯度 (B)位置 (C)地勢 (D)雨量 (E)風向。

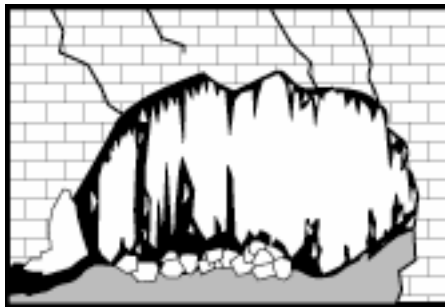
解答 (1)B (2)C

17. 右圖是某種洞穴內的地形示意圖。試問：

(1)塑造該種地形的主要作用是： (A)冰蝕 (B)風蝕 (C)河蝕 (D)崩壞 (E)溶蝕。

(2)中國華南地區哪二個地理區此種地形最發達？

(3)此種地形發達區，妨礙農業發展的最主要因素為何？



解答 (1)E (2)嶺南丘陵、雲貴高原 (3)土壤貧瘠或耕地狹小或水利工程易漏水

18. 一地氣候的因素，主受：(甲)緯度；(乙)距海遠近；(丙)盛行風向；(丁)地勢高低；(戊)洋流；(己)氣團鋒面等影響。請據以回答下列問題：

(1)雲貴高原的滇東區冬溫夏涼，與中美墨西哥高原類似，原因與上述何者有關？ (A)甲丙 (B)乙丁 (C)丙戊 (D)丁己 (E)甲丁。

(2)貴州高原的東部有「天無三日晴」之諺，且以秋雨冬霧為主，其主因為上述的哪一項？ (A)乙 (B)丙 (C)丁 (D)戊 (E)己。

解答 (1)E (2)E

解析 (2)貴州高原東部有「天無三日晴」之諺，乃鋒面受到崎嶇地形阻滯造成。

19. 雲貴高原區西部的滇西縱谷，景觀和東部高原完全不同，請回答下列各題：

(1)滇西縱谷山高谷深，地形崎嶇度極大，其自然環境的最大特徵為： (A)緯度低而氣候高寒 (B)地形落差大，通風不良，瘴癘之氣盛行 (C)氣候溫和，自然植物呈垂直變化 (D)東西交通不便，但南北舟楫暢通 (E)自然資源極度缺乏。

(2)本區受褶曲運動影響，山河排列整齊，約呈南北走向，有人稱之為雁行狀排列，和下列何地頗為相似？ (A)海南島 (B)閩浙丘陵 (C)五嶺 (D)臺灣地區 (E)秦嶺。

(3)本區河流多屬中南半島各河上游，分別流入太平洋和印度洋，故本區哪一山脈恰為兩大洋水系的分水嶺？ (A)雲嶺 (B)怒山 (C)高黎貢山 (D)哀牢山 (E)野人山。

解答 (1)C (2)D (3)B

20. 中國的雲貴高原，是眾多少數民族分布的地區，也是文化複雜程度很高的地區，苗、侗、白、傣、納西等族生活其間，但各族的生活方式與文化習俗各有差異，請回答下列問題：

(1)雲貴高原各族系的部落，每經一段時期，就出現部落的人口一部分向外遷徙的現象，這種現象的形成和發展，若使用地理學的概念來描述，可能有下列四種：(甲)空間擴散；(乙)乘數效應；(丙)環境負載力；(丁)空間交互作用。請問：正確的是： (A)甲丙 (B)甲丁 (C)乙丙 (D)丙丁。

(2)雲貴高原的各族系，其傳統的生活方式，具有「自給自足」的特性，然而，近年來，部分地區的傳統生活方式日漸衰微，改變的可能因素有：(甲)人口成長；(乙)交通改善；(丙)礦產開採；(丁)政府政策。請問：形成此種改變與下列哪一因素關係最密切？ (A)甲乙 (B)乙丙 (C)



乙丁 (D)丙丁。

(3)雲南以氣候溫和，四季如春著稱，近年，除了觀光事業的發展，西雙版納的傣族也因商業化觀念而發展下列哪一項產業活動？ (A)熱帶栽培 (B)花卉園藝 (C)手工藝業 (D)礦產開採。

**解答** (1)A (2)C (3)B

**解析** (1)地形崎嶇的地區，受限於環境負載力，當人口太多時，便須向外遷徙，當某一族系人口向外遷徙，另行建立村落時，其民族與文化即同時形成空間擴散的現象。(2)雲貴高原的人民，由於地形崎嶇，每一村落受限於耕地及對外交通不便的因素，以自給自主的農業為生。近年因交通改善，新訊息的傳入，漸次生產經濟作物，發展商業性農業；政策方面，由於家庭為單位的農業生產責任制取代了團體生產制，也促使商業性經濟的更加活躍。(3)西雙版納由於氣候溫和溼潤，適宜蘭花的栽培，自從交通改善後，商業性農業興起，農民便從事經濟效益較高的蘭花種植，對外輸出。